

*Kobarkan semangat,
raih prestasi, dalam
ajang olimpiade sains
nasional*

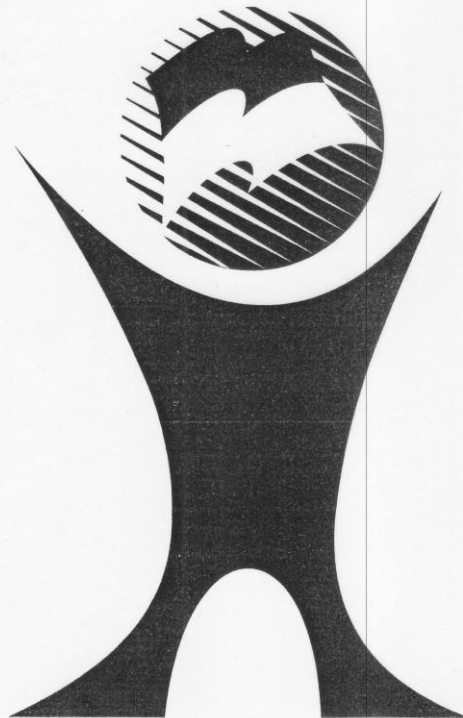


RAHASIA NEGARA

TINGKAT KABUPATEN/KOTA

**SOAL
OLIMPIADE SAINS NASIONAL SMP
TAHUN 2015**

**BIDANG:
ILMU PENGETAHUAN SOSIAL**



**KEMENTERIAN PENDIDIKAN DAN KEBUDAYAAN
DIREKTORAT JENDERAL PENDIDIKAN DASAR
DIREKTORAT PEMBINAAN SEKOLAH MENENGAH PERTAMA
TAHUN 2014**

**OLIMPIADE SAINS NASIONAL
TINGKAT KABUPATEN/KOTA TAHUN 2015**

BIDANG: ILMU PENGETAHUAN SOSIAL

Waktu Tes : 150 menit

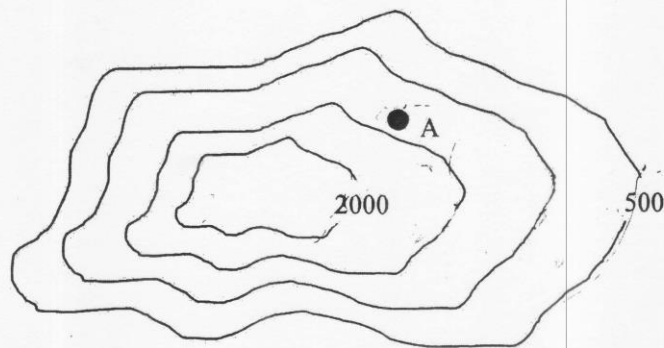
Petunjuk mengerjakan soal :

1. Soal terdiri dari 100 butir Pilihan Ganda.
2. Kerjakan setiap bentuk soal pada lembar jawaban yang telah disediakan!
3. Pilihlah salah satu jawaban yang paling tepat dengan memberi tanda silang (X) pada huruf A, B, C atau D.
4. Bila ingin mengganti jawaban, berilah tanda dua garis datar pada jawaban yang dianggap salah dan berilah tanda silang (X) pada jawaban pengganti.
Contoh: 1. ~~A~~ B D
5. Lembar jawaban harus diisi dengan menggunakan ballpoint/tinta, tidak boleh menggunakan pensil.
6. Selama mengerjakan soal tidak diperbolehkan menggunakan kalkulator dan atau alat hitung lainnya.
7. Periksa kembali lembar jawaban kalian sebelum diserahkan kepada juri dan atau pengawas.

SOAL PILIHAN GANDA

1. Secara geologis, kesuburan tanah di Pulau Jawa banyak dipengaruhi oleh...
 - A. curah hujan yang tinggi dan terpeliharanya hutan lebat
 - B. aktivitas gunung api dan relief permukaan bumi yang berbukit
 - C. tersedianya saluran irigasi dan penggunaan pupuk anorganik
 - D. pengolahan lahan dengan menggunakan traktor dan cangkul
2. Berikut ini adalah bukti adanya hubungan antara letak astronomis dengan perubahan permukaan bumi di wilayah Indonesia:
 - A. Banyak hujan yang menimbulkan laju erosi sangat tinggi.
 - B. Banyak angin yang meningkatkan tinggi gelombang perairan.
 - C. Pembagian wilayah waktu Indonesia yaitu WIB, WITA, dan WIT.
 - D. Iklim tropis dengan siklus dua musim secara bergiliran.
3. Pola curah hujan di sebagian wilayah Indonesia adalah di wilayah bagian Barat akan mendapat curah hujan yang lebih banyak daripada wilayah bagian Timur. Dengan demikian, curah hujan yang paling rendah di antara hutan-hutan di bawah ini adalah hutan...
 - A. Gede-Pangrango
 - B. Alas Roban
 - C. Baluran
 - D. Sabana Sumba
4. Pada Jaman Glasial, Dangkan Sunda dan Dangkan Sahul merupakan daratan. Sementara itu Kepulauan Sulawesi, Maluku, dan sekitarnya merupakan daerah yang terpisah. Dari peristiwa geologi di atas, manakah jenis fauna yang "terisolasi" dari pengaruh persebaran fauna Asiatis dan Australis?
 - A. Bekantan
 - B. Badak
 - C. Tarsius
 - D. Walaby
5. Pada peristiwa *upwelling* di perairan Samudera Indonesia, permukaan air laut lebih dingin dan memiliki kandungan oksigen yang rendah. Dari gambaran di atas, pengaruh *upwelling* adalah dapat...
 - A. meningkatkan produksi ikan tangkap.
 - B. meningkatkan produksi ikan tambak.
 - C. menurunkan produksi ikan tambak.
 - D. menurunkan produksi rumput laut.
6. Setiap pergi ke tempat bekerja, para petani menggunakan pakaian tebal, penutup kepala dan telinga. Dari kondisi di atas, dapat diperkirakan bahwa jenis komoditas yang mereka usahakan adalah...
 - A. padi.
 - B. kedelai.
 - C. tembakau.
 - D. kubis.

7. Tanda-tanda yang dapat diamati dari adanya kerusakan hutan di daerah hulu sungai adalah...
- berkurangnya pendapatan ikan tangkap.
 - sering terjadi banjir rob dan abrasi pantai.
 - gelombang dan arus laut semakin kuat.
 - terbentuknya delta sungai yang cepat.
8. Perhatikan gambar peta berikut!



- Lokasi A dapat diduga berada pada ketinggian... dan memiliki potensi untuk mengembangkan usaha dengan jenis tanaman...
- > 600 meter dpl; komoditas tembakau dan kelapa.
 - 1200 meter dpl; komoditas padi dan kelapa.
 - 1400 meter dpl; komoditas teh dan sayuran.
 - 500 – 1000 meter dpl; komoditas tebu dan kelapa.
9. Urutan benda peninggalan jaman Praaksara yang benar sesuai dengan urutan waktu tertua menuju ke waktu termuda adalah ...
- kapak perimbas-kapak lonjong- sarkofagus-nekara.
 - kapak lonjong-kapak genggam-moko-dolmen.
 - kapak bahu-kubur batu-kapak perimbas- lingga dan yoni.
 - kapak genggam-kapak bahu- kapak perimbas- kapak lonjong.
10. Masyarakat Praaksara dengan pola mata pencaharian Perundagian ditandai oleh karakter kehidupan sosial berikut ini:
- Hidup berkelompok secara berpindah-pindah (nomaden) di padang rumput.
 - Pembagian kerja yang tidak membedakan posisi seseorang dalam kelompoknya.
 - Perkampungan dengan pola teratur di bawah pemimpin yang karismatik.
 - Meleburnya kelompok-kelompok masyarakat yang majemuk menjadi homogen.

11. Kegiatan membersihkan bangunan masjid kuno yang memiliki nilai sejarah di sekitar tempat tinggal merupakan cerminan sikap...
- mandiri.
 - menghargai pahlawan.
 - bertanggung jawab.
 - disiplin.
12. Salah satu bukti adanya akulturasi antara budaya Indonesia dengan budaya India sejak abad ke-4 Masehi adalah...
- peninggalan Yupa di Tarumanagara yang memuat nama Kudungga.
 - menara masjid Banten berbentuk meru yang menjulang.
 - menara masjid Kudus yang bercorak Hindu.
 - dasar konstruksi punden berundak candi Borobudur.
13. Pola teknologi kapak genggam dibawa ke Indonesia oleh gelombang migrasi nenek moyang yang disebut ...
- Vedda.
 - Rig Vedda.
 - Proto-Melayu.
 - Deutero-Melayu.
14. Berikut ini adalah suku-suku bangsa Indonesia yang berasal dari gelombang imigrasi Proto-Melayu:
- Dayak, Nias, dan Toraja.
 - Sasak, Bali, dan Madura.
 - Jawa, Papua, dan Kubu.
 - Madura, Jawa, dan Bali.
15. Kerukunan bangsa adalah aspek yang harus dijunjung tinggi dalam kehidupan berbangsa dan bernegara, karena berdasarkan penelitian para ahli terhadap suku-suku bangsa di Indonesia yang memiliki perbedaan karakter lokal seperti bahasa dan dialek daerah, ternyata ditemukan bahwa keanekaragaman tersebut berakar dari rumpun bahasa yang sama yaitu ...
- Austro-Asia sublinguistik Melayu-Polinesia.
 - Austronesia sublinguistik Melayu-Polinesia.
 - Melayu-Polinesia sublinguistik Austronesia.
 - Melayu -Austronesia sublinguistik Sumatra-Polinesia.
16. Setelah masa interglasial, ras Vedda di Indonesia hidup terisolasi di pedalaman terutama sebagian besar berada di ...
- Papua Barat, Flores Barat, dan Jawa Barat.
 - Sumatra Barat, Timor Barat, dan Flores Barat.
 - Papua Barat, Flores Barat, dan Sulawesi Selatan.
 - Flores Barat, Maluku Barat, dan Seram Barat.

17. Jalur migrasi orang-orang Proto-Melayu ke wilayah Nusantara melalui jalur barat yang terjadi sekitar tahun 11000 – 2000 SM, antara lain melewati wilayah berikut ini:
- A. Semenanjung Malaysia dan Kalimantan.
 - B. Jepang dan Papua.
 - C. Thailand dan Sulawesi.
 - D. Indochina dan Sumatra.
18. Jalur migrasi orang-orang Deutero-Melayu sebelum masuk ke wilayah Nusantara melalui jalur barat sekitar tahun 300 – 200 SM, melalui negara berikut ini:
- A. Teluk Tonkin di Vietnam.
 - B. Assam di Thailand Utara.
 - C. Oc Eo di Kamboja.
 - D. Borocay di Filipina.
19. Masyarakat di perkotaan umumnya memiliki sifat individualis, sedangkan masyarakat di perdesaan masih memiliki sifat kekeluargaan dan gotong royong. Hal tersebut menunjukkan pengaruh...
- A. wilayah terhadap aspek psikologis masyarakat.
 - B. wilayah terhadap pola interaksi sosial masyarakat.
 - C. modernisasi terhadap aspek psikologis masyarakat.
 - D. pendidikan terhadap aspek sosial masyarakat.
20. Nasionalisme keindonesiaan pada masa pergerakan nasional dipicu oleh ...
- A. munculnya elite terdidik.
 - B. menguatnya peranan partai politik.
 - C. bertambahnya jumlah pengusaha pribumi
 - D. munculnya serikat-serikat buruh.
21. Di antara tokoh-tokoh pergerakan nasional berikut, yang *tidak* berlatar belakang pendidikan di negeri Belanda adalah ...
- A. Soekarno.
 - B. Moh. Hatta.
 - C. Sutan Sjahrir.
 - D. Tan Malaka.
22. Organisasi pergerakan nasional yang berdiri pada tahun 1908 yang bertujuan untuk memajukan budaya daerah dan sekaligus memajukan pendidikan dan anggotanya dari orang Jawa yaitu....
- A. Boedi Oetomo.
 - B. Trikoro Dharmo.
 - C. Sarekat Islam.
 - D. Indische Partij.

23. Latar belakang pendirian organisasi Sarekat Dagang Islam (SDI) adalah...
- dominasi orang Cina terhadap penduduk pribumi dari pengaruh revolusi Tiongkok
 - adanya persaingan dagang yang tidak sehat orang Cina di Pulau Jawa.
 - adanya pengaruh budaya asing yang masuk ke budaya lokal secara damai.
 - ingin memajukan organisasi pergerakan Islam menjelang kemerdekaan.
24. Ketersediaan angkatan kerja yang tidak didukung oleh tersedianya lapangan kerja yang cukup akan memacu...
- urbanisasi penduduk
 - persaingan tenaga kerja
 - kuantitas tenaga kerja
 - kualitas angkatan kerja
25. Jumlah penduduk Indonesia berdasarkan sensus penduduk tahun 1980 – 2010 terus meningkat seperti terlihat pada grafik di bawah ini. Berapakah rata-rata pertambahan penduduk per tahun di Indonesia?

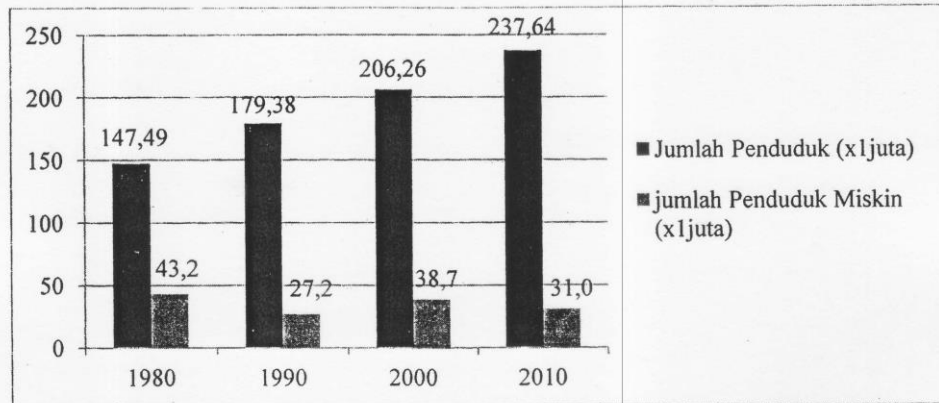


- 3,005 juta jiwa.
 - 90,15 juta jiwa.
 - 2,04 persen.
 - 20,4 persen.
26. Daya saing tenaga kerja Indonesia di tingkat global sebagai dampak dari laju pertumbuhan penduduk tidak akan menjadi masalah, jika penduduk memiliki...
- kompetensi dalam profesinya.
 - usaha yang relevan untuk bersaing.
 - pendidikan setingkat sekolah menengah.
 - kesempatan untuk menjadi wiraswasta.
27. Kecenderungan terjadinya bonus demografi di Indonesia tidak akan menurunkan kesejahteraan masyarakat, jika penduduknya....
- berperan sebagai konsumen potensial.
 - berperan sebagai tenaga kerja yang efektif.
 - rata-rata berpendidikan sekolah menengah.
 - memiliki peluang untuk berusaha.

28. Indikator kualitas kesehatan penduduk Indonesia dapat dilihat dari...

- A. standar hidup layak
- B. usia harapan hidup
- C. standar makanan sehat
- D. sarana PUSKESMAS

29. Grafik di bawah ini menggambarkan jumlah penduduk dan kemiskinan di Indonesia Tahun 1980 – 2010.

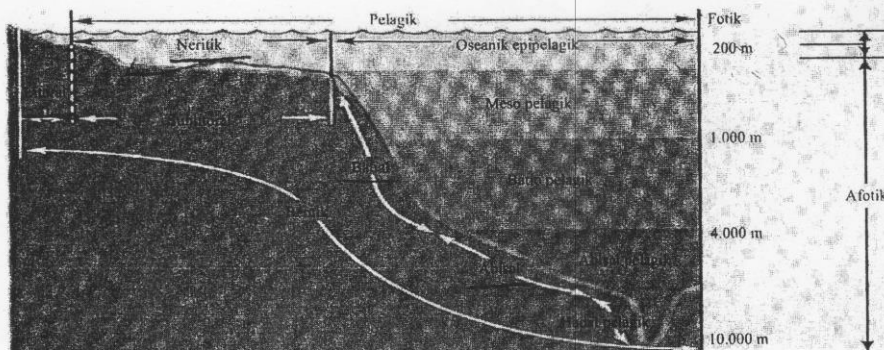


Jumlah penduduk Indonesia dalam empat dekade sensus di atas cenderung bertambah, sedangkan jumlah penduduk miskin menurun. Kondisi kependudukan seperti ini menunjukkan...

- A. kualitas sumberdaya manusia meningkat.
 - B. sumberdaya manusia Indonesia mampu bersaing secara global.
 - C. tingkat kesejahteraan penduduk meningkat.
 - D. tingkat kesejahteraan penduduk menurun.
30. Pergeseran struktur penduduk usia muda (di bawah 15 tahun) ke usia produktif (15 – 64 tahun) akan membawa konsekuensi paling penting terhadap penyediaan...
- A. kesempatan kerja dan sarana pendidikan.
 - B. layanan kesehatan dan pemenuhan gizi makanan.
 - C. perumahan dan bahan pangan.
 - D. penyantunan penduduk usia lanjut (lansia).
31. Fungsi lembaga pendidikan dalam upaya mempersiapkan Generasi Emas tahun 2045 adalah menciptakan manusia....
- A. terampil dan bisa bersaing.
 - B. rajin dan menguasai teknologi tinggi.
 - C. pintar dan pendapatan tinggi.
 - D. berkepribadian dan memiliki daya saing.

32. Jenis pendidikan yang cocok untuk daerah terluar, terdepan dan tertinggal (3 T) di Indonesia seharusnya lebih menekankan pada peningkatan....
- keterampilan untuk bisa bersaing di era global.
 - rasa kebangsaan dan teknologi berbasis potensi lokal.
 - rasa tanggung jawab dan teknologi tinggi.
 - kerukunan hidup bermasyarakat dan gotong royong.
33. Permasalahan pendidikan di Indonesia antara lain pemerataan dan kualitas yang masih rendah. Salah satu upaya untuk mengatasi hal tersebut adalah melalui....
- pemberian ijin lembaga pendidikan asing beroperasi di Indonesia
 - peningkatan peran serta masyarakat dan swasta dalam pendidikan
 - penambahan jumlah lembaga pendidikan keterampilan vokasional
 - peningkatan kemitraan antara pemerintah dengan Lembaga Swadaya Masyarakat .
34. Luas lahan gambut Indonesia sekitar 26 juta hektar, tersebar di Sumatra 7,2 juta ha (35%), Kalimantan 5,8 juta ha (22%), Papua 10,9 juta ha (42%), dan sisanya berada di pulau lainnya. Berdasarkan data di atas, daerah yang memiliki potensi sumber daya batu bara adalah...
- Papua
 - Sumatra
 - Kalimantan
 - Jawa


35. Perhatikan gambar di bawah ini!. Terumbu karang tumbuh subur pada zona...



- abisal
 - batial
 - litoral
 - neritik
36. Berikut ini merupakan peranan sumber daya alam biotik dalam pembangunan nasional di Indonesia, *kecuali* :
- meningkatkan pendapatan nasional
 - menyediakan lapangan kerja
 - sebagai basis pertumbuhan ekonomi
 - sebagai dasar penentuan kebijakan ekonomi

37. Contoh sumber daya alam *terestris* di bawah ini yang berfungsi sebagai faktor produksi adalah...
- A. tanah yang digunakan untuk usaha pertanian.
 - B. tanah yang digunakan untuk produksi genteng.
 - C. hutan dengan segala tumbuh-tumbuhannya.
 - D. laut dengan sumber daya hayati di dalamnya.
38. Potensi sumber daya alam di Indonesia belum dapat dimanfaatkan secara optimal. Hal ini disebabkan oleh...
- A. laju pertumbuhan penduduk yang tinggi.
 - B. keahlian penduduk yang masih rendah.
 - C. pengelolaan sumber daya belum efektif.
 - D. pemasaran hasil produksi belum merata.
39. Contoh kegiatan produksi pada sektor pertambangan adalah...
- A. PT Astra merakit berbagai jenis kendaraan bermotor.
 - B. PT Pertamina memasarkan BBM bersubsidi.
 - C. PT Persada menghasilkan mangan sebagai bahan baku keramik.
 - D. Perumnas menggunakan tanah untuk lahan perumahan.
40. Contoh saluran distribusi tidak langsung pada sektor peternakan adalah...
- A. Pak Ahmad berkeliling menjual sate ayam kepada pelanggannya.
 - B. Pak Budi menjual daging ayam ke Supermarket.
 - C. Ibu Yani membeli daging ayam dari peternak di sebelah rumahnya.
 - D. Pak Adi meminjam uang ke Bank untuk usaha peternakannya.
41. Pantai Utara Jawa dan Pantai Timur Sumatra merupakan daerah dataran rendah di Indonesia. Di daerah tersebut, pasokan air berasal dari sungai dan saluran irigasi. Aktivitas pertanian yang cocok dikembangkan di daerah tersebut adalah...
- A. pertanian lahan basah
 - B. pertanian lahan kering
 - C. palawija
 - D. perkebunan
42. DKI Jakarta pada musim penghujan mengalami peningkatan jangkitan Demam Berdarah Dengue (DBD). Hal ini terkait dengan keadaan DKI yang memiliki...
- A. dataran yang sering tergenang banjir.
 - B. kecepatan angin yang tinggi.
 - C. curah hujan yang tinggi dan merata.
 - D. ruang terbuka hijau yang sempit.


43. Perhatikan gambar di bawah ini!



Rendahnya kualitas lingkungan di daerah tersebut disebabkan oleh....

- A. rendahnya daya beli masyarakat.
- B. tingginya urbanisasi.
- C. sungai menjadi sumber penghidupan.
- D. tata ruang yang semrawut.

44. Perhatikan gambar di bawah ini!



Dari gambar di atas, manakah pernyataan yang paling tepat terkait dengan pengolahan lahan sawah?

- A. Produktivitas tinggi pada lahan sawah yang diolah menggunakan cangkul.
- B. Produktivitas rendah pada lahan sawah yang diolah dengan menggunakan traktor.
- C. Produktivitas tinggi pada lahan sawah yang diolah dengan menggunakan traktor.
- D. Produktivitas tinggi karena mengolah tanah menggunakan cangkul dapat menjaga kesuburan tanah.

45. Buruh nelayan merupakan kelompok masyarakat paling miskin di Indonesia. Cara paling tepat untuk memutus rantai kemiskinan mereka adalah melalui
- pemberian fasilitas bantuan modal agar mereka bisa hidup mandiri.
 - peningkatan pendidikan dan keterampilan untuk meningkatkan keberdayaan.
 - pemberian fasilitas teknologi agar bisa meningkatkan hasil tangkapan.
 - mendekatkan mereka kepada sumber-sumber pendanaan dan peluang berusaha.
46. Kabupaten Tanggamus Provinsi Lampung dikenal sebagai penghasil kopi dan telah menjadi tujuan transmigrasi sejak jaman kolonial. Interaksi panjang antara penduduk pendatang dengan penduduk asli di kabupaten tersebut menghasilkan sikap....
- menerima keanekaragaman budaya dan suku bangsa lain.
 - kritis kelompok mayoritas terhadap budaya dan suku bangsa lain.
 - ketidakpedulian terhadap budaya suku bangsa lainnya.
 - apatis terhadap budaya suku bangsa lain lebih rendah.
47. Ni Luh Sarastika yang berasal dari Bali dan beragama Hindu mengalami kecelakaan lalu lintas. Rizki segera menolongnya walaupun ia berasal dari Sumatra Barat dan beragama Islam. Peristiwa ini menunjukkan bahwa....
- interaksi sosial bisa menjadi alat perbedaan dan anti sosial.
 - konflik vertikal antar agama seharusnya bisa diredam melalui interaksi.
 - sisi humanism seharusnya dimiliki setiap individu tanpa mengenal etnis.
 - interaksi sosial merupakan dasar terbentuknya kelompok sosial.
48. Bentuk dan pernak pernik pakaian pengantin adat Betawi banyak dipengaruhi oleh unsur budaya Arab, Tionghoa dan Melayu. Hal ini menunjukkan bahwa interaksi sosial....
- yang intensif berwujud materi dan non-materi.
 - menghasilkan akulturasi dan wujud budaya baru.
 - dipengaruhi oleh ruang dan waktu.
 - bisa terjadi tanpa harus ada yang tersingkir.
49. Interaksi dalam bidang ekonomi terlihat dalam perdagangan antar pulau di Indonesia untuk meningkatkan pertumbuhan ekonomi daerah dan nasional. Tujuan interaksi ini adalah untuk...
- pemerataan kesejahteraan
 - perluasan akses bekerja
 - keamanan nasional
 - mengurangi kemiskinan
50. Makanan tradisional khas Maluku yang menarik wisatawan dalam dan luar negeri adalah...
- plecing kangkung.
 - papeda.
 - cincalok.
 - binte biluhuta.

51. Tari Kecak berkisah tentang Ramayana yaitu perebutan Sinta antara Rama dengan Rahwana. Faktor pendukung daya tarik Tari Kecak menjadi magnet pariwisata internasional adalah...
- asal tarian dari Bali yang memiliki keindahan alam.
 - masyarakat lokal yang mencintai kebudayaannya.
 - kepercayaan penduduk terhadap nenek moyang.
 - kreativitas masyarakat dalam mengembangkan ekonomi.
52. Batik dikenal sebagai warisan leluhur bangsa Indonesia dan sangat terkenal di Jawa Tengah. Namun saat ini, batik juga berkembang di berbagai daerah di luar Jawa. Fakta ini merupakan contoh dari pengembangan ekonomi...
- unggul
 - kedaerahan
 - informatif
 - kreatif
53. Konflik antara para pendukung calon presiden dalam Pemilu menunjukkan kondisi yang seringkali tidak dapat dipisahkan dengan kekuasaan. Dalam konteks interaksi sosial, hal ini menunjukkan bahwa konflik...
- merupakan upaya menuju integrasi bangsa.
 - menyebabkan terjadinya disintegrasi bangsa.
 - dapat meningkatkan solidaritas pihak lain.
 - menghasilkan individu sebagai pemenang.
54. Perhatikan kasus di bawah ini!
- Pengendara motor harus menggunakan helm dan menyalakan lampu.
 - Masyarakat saling bergotong royong memperbaiki sarana ibadah.
 - Setiap bulan konsumen/pelanggan PLN harus membayar rekening listrik.
 - Penggerebekan kos-kosan yang dijadikan sarang bandar narkoba oleh warga.
- Berdasarkan kasus di atas, kasus mana yang termasuk tahap terakhir dalam terciptanya keteraturan sosial....
- (1)
 - (2)
 - (3)
 - (4)
55. Keragaman bahasa daerah yang melahirkan kebanggaan akan bahasa Indonesia melalui momentum Sumpah Pemuda 28 Oktober 1928 menjadi fase penting dalam pembangunan nasional, karena ...
- memperkaya bahasa Indonesia sebagai bahasa nasional.
 - menyepakati bahasa persatuan untuk seluruh bangsa Indonesia.
 - mempersatukan identitas bangsa Indonesia.
 - mencegah terjadinya disintegrasi bangsa Indonesia.

56. Keahlian dalam bidang pelayaran dan perkapalan dibentuk antara lain karena adanya interaksi antara manusia dengan lingkungan alam. Keahlian ini dimiliki antara lain oleh suku bangsa ...
- Minang.
 - Banjar.
 - Bugis.
 - Madura.

57. Perhatikan tabel di bawah ini!

I Kampung Giriloyo, Yogyakarta	III Kampung Laweyan, Solo
II Desa Wisata Pentingsari, Cangkringan	IV Desa Wisata Samiran, Boyolali

Berdasarkan tabel di atas, mana yang menunjukkan kawasan yang menjadi strategi pelestarian batik Indonesia sebagai warisan dunia ...

- I dan IV
 - I dan III
 - II dan III
 - III dan IV
58. Makna kemerdekaan sebagai modal pembangunan nasional adalah ...
- lahirnya dwitunggal Soekarno-Hatta.
 - kemandirian dalam merencanakan masa depan bangsa.
 - terbebasnya bangsa Indonesia dari penjajahan Inggris.
 - pengakuan kedaulatan Indonesia pada 1945 oleh Belanda.
59. Salah satu kebijakan pembangunan ekonomi Indonesia pada awal kemerdekaan (1945-1950) adalah ...
- nasionalisasi Bank Java menjadi Bank Indonesia.
 - penerapan sistem ekonomi Ali-Baba.
 - peluncuran Oeang Republik Indonesia (ORI).
 - mempertahankan tingkat inflasi.
60. Proklamasi Kemerdekaan Indonesia yang dikumandangkan merupakan sebuah langkah awal menuju pembangunan yang dicita-citakan. Maksud dari langkah awal tersebut adalah ...
- Dengan adanya proklamasi bangsa Indonesia mempunyai kesempatan untuk membentuk sistem pemerintahan sendiri guna menyusun rancangan pembangunannya sendiri.
 - Proklamasi merupakan batu loncatan menuju kebebasan setelah mengalami ketertindasan akibat penjajahan.
 - Pembangunan yang dicita-citakan memerlukan pijakan dan landasan, oleh sebab itu proklamasi merupakan pijakan dan landasan awal.
 - Tanpa kemerdekaan pembangunan yang dicita-citakan tersebut akan menjadi hampa karena tidak adanya kebebasan.

61. Setiap tanggal 17 Agustus para siswa sekolah mengikuti upacara Proklamasi Kemerdekaan Republik Indonesia di sekolahnya masing-masing. Namun ketika jam pulang sekolah sebagian mereka terlibat tawuran dengan pelajar dari sekolah lain. Tindakan pelajar tersebut menunjukkan:
- A. Para pelajar tersebut memaknai kemerdekaan sebagai bagian ekspresi kebebasan.
 - B. Para pelajar tersebut memaknai bahwa kemerdekaan yang telah diperoleh merupakan bagian dari perjuangan para tokoh kemerdekaan.
 - C. Para pelajar tersebut memaknai arti kemerdekaan dari sudut pandang yang kurang tepat.
 - D. Sikap dan tindakan para pelajar tersebut baru sebatas pada praktik seremonial semata dan belum menghayati makna sebenarnya.
62. Indonesia berada di antara benua Asia dan Australia yang sangat strategis dalam bidang perdagangan. Berikut ini merupakan keuntungan letak strategis ini dalam sektor perdagangan, *kecuali* ...
- A. pengurangan angka pengangguran.
 - B. peningkatan industri dan jasa.
 - C. peningkatan ekspor hasil tambang dan alam.
 - D. penambahan devisa negara.
63. Pengaruh letak Indonesia yang berada pada $23,5^{\circ}$ LU - $23,5^{\circ}$ LS terhadap pola angin dan interaksi manusia adalah ...
- A. angin dari Samudera Hindia membawa panas sehingga menyebabkan adanya musim kemarau pada bulan Oktober hingga April dan para petani menanam padi pada bulan September.
 - B. angin dari Samudera Pasifik membawa uap air yang menyebabkan musim hujan pada bulan Oktober hingga April dan para nelayan menepi pada siang hari.
 - C. angin dari pegunungan yang membawa uap air dari gunung ke lembah pada waktu malam hari menyebabkan musim hujan dan penduduk pada lereng gunung membuat atap rumah lebih landai.
 - D. arus konveksi panas di dataran rendah sehingga uap air naik menyebabkan musim tidak menentu dan penduduk di daerah dataran rendah menggunakan pelindung sengatan matahari.
64. Pertemuan lempeng samudera Australia dengan lempeng benua Eurasia memberikan dampak pada berlimpahnya sumberdaya alam di Indonesia. Nilai positif yang dapat diambil untuk kemajuan bangsa Indonesia adalah ...
- A. kemajuan dalam bidang ilmu dan teknologi.
 - B. tingginya bahan tambang dan mineral sebagai aset negara.
 - C. keanekaragaman hayati sebagai komoditas unggulan.
 - D. perbedaan tingkat kesuburan tanah di Indonesia.

65. Harga suatu barang ditentukan dari biaya produksi termasuk biaya transportasi. Semakin jauh jarak dari produsen ke konsumen, biaya transportasinya semakin besar, sehingga harga beras di ... cenderung lebih ...
- A. Kalimantan; mahal dibandingkan di Jawa.
 - B. Kalimantan; murah dibandingkan di Jawa.
 - C. Jawa; mahal dibandingkan di Sulawesi.
 - D. Kalimantan; murah dibandingkan di Sumatra.
66. Direncanakan pada tahun 2016 masyarakat Jakarta dapat menggunakan moda transportasi kereta api bawah tanah, yang dapat mengurangi kemacetan. Dampak proyek ini terhadap pertumbuhan ekonomi adalah ...
- A. meningkatnya Produk Domestik Bruto.
 - B. mengurangi kesenjangan pendapatan.
 - C. mengurangi kemiskinan.
 - D. mengurangi urbanisasi.
67. Daerah Istimewa Yogyakarta (DIY) merupakan salah satu provinsi di Indonesia yang mengalami urbanisasi yang pesat. Dampak positif urbanisasi yang terjadi di DIY terhadap pembangunan wilayah adalah ...
- A. sulitnya memperoleh lapangan pekerjaan.
 - B. berkurangnya ketersediaan lahan pertanian.
 - C. meningkatnya angka pengangguran.
 - D. perluasan wilayah perkotaan.
68. Kemajuan ilmu dan teknologi memberikan keuntungan terhadap sektor industri dan perdagangan. Agar kemajuan industri dapat sebanding dengan kemajuan negara, maka penentuan lokasi industri yang strategis tanpa merusak lingkungan alam harus didasarkan ...
- A. perhitungan daya dukung lingkungan dan konservasi yang sesuai.
 - B. penggunaan bahan baku alam ditekan serendah mungkin.
 - C. penentuan lokasi dengan jarak pemasaran tidak terlalu jauh.
 - D. penyediaan bahan baku langsung dari alam sehingga alat-alat berat tidak banyak merusak alam.
69. Kedatangan bangsa-bangsa Barat ke Indonesia memberikan dampak kepada Indonesia dalam hal perekonomian. Faktor penarik kedatangan bangsa-bangsa Barat dengan Indonesia dilihat dari letak geostrategis Indonesia adalah di Indonesia ...
- A. memiliki banyak gunung api sehingga sangat cocok untuk penanaman rempah-rempah.
 - B. merupakan jalur gunung api sehingga banyak bahan tambang batu bara sebagai bahan baku mesin uap.
 - C. berada pada jalur perlintasan dagang dunia sehingga kebutuhan akan rempah-rempah di perdagangan dunia menjanjikan.
 - D. di antara dengan Samudera Hindia dan Pasifik sehingga efisiensi dalam penggunaan mesin uap dan penghematan biaya.

70. Bangsa Indonesia terbuka terhadap perubahan dan perkembangan budaya yang berasal dari luar dikarenakan letak dan posisi Indonesia berada di antara dua persilangan yang selalu dilintasi oleh kapal-kapal asing. Hal yang menyebabkan kapal-kapal asing kerap melintasi dan mengunjungi Indonesia dalam perjalanan lautnya disebabkan beberapa faktor, di antaranya....
- Indonesia yang beriklim tropis tidak memiliki karakter ekstrim sehingga perubahan iklim pada umumnya tidak mengganggu kegiatan masyarakat sepanjang tahun.
 - Pasokan perbekalan kapal-kapal asing yang berlayar melintasi perairan Indonesia pada umumnya sudah habis sehingga wilayah Indonesia merupakan daerah yang terdekat untuk disinggahi.
 - Kapal-kapal asing baik dari segala penjuru dunia mengunjungi Indonesia karena untuk memperoleh rempah-rempah dari daerah sumbernya.
 - Kondisi perairan di wilayah Indonesia yang terletak sangat strategis di antara dua samudera dan dua benua pada umumnya aman dari perompak-perompak bajak laut sehingga menarik para pedagang asing untuk singgah di Indonesia.
71. Indonesia terkenal di dunia sebagai daerah penghasil rempah-rempah seperti kayu manis, lada, cengkih, kemiri, dan juga merica. Faktor yang membuat bangsa-bangsa Barat saling bersaing dan ingin memonopoli perdagangan rempah-rempah tersebut adalah....
- rempah-rempah yang diinginkan oleh berbagai bangsa Barat itu sangat laku keras di pasaran dunia, khususnya di Eropa.
 - faktor iklim yang berbeda antara negara-negara bangsa Barat dengan Indonesia menyebabkan perbedaan jenis tanaman yang tumbuh di masing-masing daerah.
 - iklim di Indonesia memungkinkan berbagai jenis tanaman rempah-rempah yang dibutuhkan setiap hari tersebut dapat tumbuh pada setiap musimnya.
 - tanaman rempah-rempah tersebut sangat dibutuhkan oleh bangsa-bangsa Barat sebagai penghangat yang kondisi iklim daerahnya sub-tropis.
72. Indonesia memiliki peran yang penting dalam bidang ekonomi di Asia. Salahnya adalah Indonesia merupakan pengeksport terbesar di Asia.
- kelapa sawit
 - cengkeh
 - minyak mentah
 - kopi

Untuk menjawab soal nomor 82 dan 83, perhatikan data berikut ini

Produk Domestik Bruto Berdasarkan Harga Konstan 2005 (dalam juta US\$)

	2011	2012	2013
Indonesia	402.408,024160	427.613,536898	452.334,834084
Amerika Serikat	13.846.778,425	14.231.574,698	14.498.623,127
Swedia	413.402,580325	417.239,682032	424.071,395739
Thailand	210.252,495189	226.372,919411	230.371,465629
Singapura	187.145,826388	191.831,449932	199.219,001980

Sumber: Bank Dunia

73. Berdasarkan data di atas, posisi pendapatan nasional Indonesia berada ...
- A. di bawah Swedia.
 - B. di atas Swedia.
 - C. di bawah Thailand.
 - D. di bawah Singapura.
74. Berapa selisih PDB Amerika Serikat dengan Indonesia pada tahun 2013 dalam miliar rupiah (asumsi 1 US\$=Rp. 11.000)?
- A. 154.509.171,23
 - B. 438.509.171,23
 - C. 520.501.232,32
 - D. 120.501.232,32
75. Salah satu ketentuan bagi kaum pribumi pada masa pergerakan nasional untuk dapat diterima di HBS (Hogeere Burger Schol) harus berasal dari keluarga priyayi. Fakta tersebut menunjukkan adanya...
- A. stratifikasi sosial.
 - B. mobilitas sosial.
 - C. dinamika sosial.
 - D. interaksi sosial.
76. Pola stratifikasi sosial masyarakat pada masa kolonial Belanda adalah
- A. Timur asing – Eropa – Peranakan.
 - B. Indo Belanda – Timur Asing – Pribumi.
 - C. Eropa – Timur asing – Pribumi.
 - D. Pribumi – Eropa – Timur asing.
77. Perhatikan pernyataan di bawah ini :
- (1). Pak Haji Samiun adalah orang terkaya di kampungnya.
 - (2). Ketua RT yang sudah menjabat dua periode.
 - (3). Pak Guru menjadi tokoh yang disegani di kampungnya.
 - (4). Ibunya Rani menjadi Ketua Posyandu di wilayahnya.
 - (5). Ayahnya Tuti menjadi masinis kereta api.
- Pernyataan yang tepat untuk menggambarkan faktor dominan pembentuk stratifikasi sosial yaitu...
- A. (1) dan (5)
 - B. (2) dan (4)
 - C. (3) dan (4)
 - D. (1) dan (3)
78. Cerita Siti Nurbaya yang berlatar kehidupan masyarakat Minangkabau memberi dampak pada perubahan pandangan masyarakat terhadap lembaga ...
- A. perkawinan.
 - B. pendidikan.
 - C. ekonomi.
 - D. agama.

79. Orangtua sering menceritakan dongeng, mitos dan legenda sebagai penghantar tidur anak-anaknya. Berdasarkan pernyataan di atas, bentuk aktifitas tersebut dilakukan secara ...
- A. tatap muka langsung.
 - B. tatap muka tidak langsung.
 - C. media perantara.
 - D. komunikasi verbal.
80. Dalam konteks mencegah dampak negatif modernisasi, kebersamaan warga dalam acara arisan sungai di Danau Empangau pada dasarnya adalah mekanisme sosial untuk mencegah ...
- A. kelestarian lingkungan alam.
 - B. pola hidup konsumtif.
 - C. pola hidup individualistis.
 - D. gaya hidup kebarat-baratan.
81. Dalam sidang BPUPKI 1945 Bung Karno mengembangkan konsep etnis menjadi suku bangsa. Padanan yang selaras dengan gagasan Bung Karno tersebut adalah...
- A. Integrasi bangsa
 - B. Kemajuan bangsa
 - C. Perubahan bangsa
 - D. Dinamika bangsa
82. Keberadaan teknologi internet dewasa ini merupakan salah satu bentuk...
- A. Renovasi
 - B. Rehabilitasi
 - C. Invensi
 - D. inovasi
83. Dampak ekonomi dengan semakin meningkatnya proporsi penduduk perempuan Indonesia yang bekerja dan menikah adalah...
- A. berubahnya pola asuh anak
 - B. meningkatnya kesempatan karir
 - C. berubahnya pola komunikasi suami istri
 - D. berubahnya pola pekerjaan istri
84. Salah satu dampak modernisasi terhadap lembaga ekonomi dewasa ini adalah munculnya ...
- A. *money changer*.
 - B. *online market*.
 - C. *Automatic Teller Machine*.
 - D. *Stock exchange*.

85. Dampak negatif dari munculnya kawasan industri bagi lingkungan terutama pada kondisi udara di sekitarnya adalah ...
- A. pemasangan cerobong asap yang melawan arah angin mengakibatkan menurunnya kesehatan penduduk sekitar.
 - B. pembakaran bahan bakar fosil mengakibatkan percepatan pelapukan kimia pada tanah dan besi.
 - C. penggunaan bahan bakar kayu mengakibatkan berkurangnya jumlah pohon penyerap gas-gas beracun.
 - D. pengolahan hasil industri menggunakan bahan alam mengakibatkan matinya tanaman dan burung-burung.
86. Bila dihayati dengan baik, agama menyediakan panduan bertindak sehari-hari, karena agama menyediakan jawaban atas pertanyaan: dari mana dia berasal, bagaimana dia hidup, dan ke mana ia setelah mati. Bahkan dalam situasi yang serba tidak pasti di tengah perubahan sosial budaya yang cepat, agama tetap berfungsi sebagai sumber ...
- A. pemersatu.
 - B. pembeda.
 - C. penggagas.
 - D. motivasi.
87. Akibat dijadikannya kawasan industri, maka tata guna lahan, komposisi penduduk, dan struktur mata pencaharian penduduk di Kecamatan Serdang banyak sekali yang bergeser. Namun perubahan sosial ekonomi tersebut di mata Andi justru menjadi peluang. Ia memiliki keterampilan perbengkelan yang diperolehnya sewaktu bersekolah di SMK. Wacana ini memperlihatkan adanya fungsi positif dari lembaga sosial dalam merespon perubahan sosial, yakni lembaga ...
- A. keluarga.
 - B. pendidikan.
 - C. ekonomi.
 - D. agama.
88. Pernyataan berikut ini yang menunjukkan pemetaan Negara Berkembang dan Negara Maju pada masa setelah Perang Dunia II hingga tahun 1980 adalah...
- A. Etiopia dan Mesir.
 - B. Jepang dan Jerman.
 - C. Irak dan Korea Selatan.
 - D. Mexico dan Amerika Serikat.
89. Sektor perdagangan dan perindustrian Indonesia terus meningkat. Hal ini ditandai dengan adanya relokasi industri. Dampak positif yang muncul bagi Indonesia dengan adanya relokasi industri adalah ...
- A. upah gaji bertambah sehingga upah minimum meningkat.
 - B. peningkatan pendapatan negara karena terjadi persaingan dengan perusahaan lokal.
 - C. berkurangnya angka pengangguran terdidik dan terampil.
 - D. teknologi dari negara maju berpindah ke Indonesia keuntungan bisnis banyak masuk ke Indonesia.

90. Pertemuan APEC di Indonesia pada tanggal 5 November 1994, membuktikan Indonesia berperan penting dalam organisasi-organisasi regional dan internasional. Salah satu peran Indonesia dalam APEC adalah ...
- meningkatkan stabilitas dan keamanan regional dan mematuhi prinsip-prinsip Piagam PBB.
 - mempercepat pertumbuhan ekonomi, sosial, dan kebudayaan bangsa Asia Tenggara.
 - menjalankan kebijakan ekonomi secara sehat dengan tingkat inflasi rendah.
 - menjaga kestabilan nilai tukar mata uang asing.
91. Rapat Konsultasi Tahunan ke-10 antara Indonesia dan Malaysia pada tanggal 19 Desember 2013 menghasilkan kesepakatan kerjasama kedua negara di bidang ekonomi yaitu
- untuk mencapai neraca perdagangan yang lebih berimbang dan mempromosikan minyak kelapa sawit di pasar global
 - mendukung kesepakatan bahwa Asia sebagai kawasan yang bebas, damai, netral
 - menjadi tempat usaha negara maju untuk membantu negara yang sedang berkembang
 - mempercepat pertumbuhan ekonomi, sosial, dan kebudayaan di wilayah Asia Tenggara
92. Syarat barang sebagai alat perantara pertukaran adalah ...
- nilai uang barang tidak tetap
 - kebanyakan uang barang tidak tahan lama
 - sukar dibagi menjadi bagian yang lebih kecil
 - barang tersebut dapat diterima dan dibutuhkan semua orang
93. Pada masa awal kemerdekaan, mata uang yang berlaku setiap daerah berbeda-beda. Mata uang yang pernah berlaku di Aceh adalah ...
- URIPS.
 - URIBA.
 - URIDAB.
 - Kampua.
94. *Internationale Credit en Handelsvereeniging* yang biasa disebut juga *Internatio*, berdiri pada
- tahun 1863 dan berkedudukan di Rotterdam.
 - tahun 1857 dan berkedudukan di Jakarta.
 - tahun 1863 dan berkedudukan di Jakarta.
 - tahun 1878 dan berkedudukan di Amsterdam.
95. Lembaga yang merupakan cikal bakal pegadaian sebagai lembaga keuangan non-bank adalah ...
- Bank Van Leening yang didirikan pada jaman VOC.
 - Bank Van Leening yang didirikan oleh pemerintah Inggris.
 - De Javasche Bank yang didirikan pada masa VOC
 - De Post Poar Bank yang didirikan pada masa Hindia Belanda.

96. Adanya perbedaan mata uang antarnegara dan kebutuhan terhadap mata uang negara lain dapat difasilitasi dengan adanya pasar ...
- A. valuta asing.
 - B. internasional.
 - C. modal.
 - D. uang.
97. Peranan bank dalam perdagangan internasional adalah ...
- A. mendukung kelancaran mekanisme pembayaran.
 - B. mendukung kelancaran transaksi internasional.
 - C. sebagai penjamin pembayaran.
 - D. pemberian jasa-jasa lainnya.
98. Sikap yang ditunjukkan oleh negara-negara Asia Afrika terhadap proklamasi kemerdekaan Indonesia menunjukkan adanya:
- A. kerjasama antarnegara Asia-Afrika.
 - B. kesepakatan antarnegara Asia-Afrika.
 - C. solidaritas antarnegara Asia-Afrika.
 - D. perjanjian antarnegara Asia-Afrika.
99. Kerjasama antarnegara memiliki arti yang strategis dalam membangun diplomasi bertetangga baik. Fakta sejarah yang menjadi bukti kuat kemampuan suatu kerjasama di era Indonesia mempertahankan kemerdekaan adalah ...
- A. konferensi Asia Afrika di Bandung
 - B. peranan Australia dalam Komisi Tujuh Negara
 - C. peranan India dalam mempersiapkan Konferensi Inter-Asia
 - D. peranan India dalam Negara Liga Arab
100. Faktor utama yang telah terbukti mendukung kemerdekaan Indonesia dan upaya mempertahankannya adalah...
- A. kerjasama dengan Jepang dan Amerika Serikat
 - B. kerjasama dengan Malaysia dan Inggris
 - C. kerjasama dengan Afrika Selatan dan Mesir
 - D. kerjasama dengan India dan Australia

SELESAI