



**OLIMPIADE SAINS NASIONAL SMP
TINGKAT KABUPATEN/KOTA
TAHUN 2016**

**BIDANG:
ILMU PENGETAHUAN SOSIAL**



OLIMPIADE SAINS NASIONAL

**KEMENTERIAN PENDIDIKAN DAN KEBUDAYAAN
DIREKTORAT JENDERAL PENDIDIKAN DASAR DAN MENENGAH
DIREKTORAT PEMBINAAN SEKOLAH MENENGAH PERTAMA
TAHUN 2015**

OLIMPIADE SAINS NASIONAL
TINGKAT KABUPATEN/KOTA TAHUN 2016

BIDANG ILMU PENGETAHUAN SOSIAL

Waktu Tes: 150 menit


Petunjuk mengerjakan soal :


1. Soal terdiri dari 100 butir Pilihan Ganda.
2. Jawablah setiap soal pada lembar jawaban yang telah disediakan!
3. Pilihlah salah satu jawaban yang paling tepat dengan memberi tanda silang (X) pada huruf A, B, C atau D.
4. Bila ingin mengganti jawaban, berilah tanda dua garis datar pada jawaban yang dianggap salah dan berilah tanda silang (X) pada jawaban pengganti.
Contoh: 1. A B ~~C~~ D
5. Lembar jawaban harus diisi dengan menggunakan ballpoint/tinta, tidak boleh menggunakan pensil.
6. Selama mengerjakan soal tidak diperbolehkan menggunakan kalkulator dan atau alat hitung lainnya.
7. Periksa kembali lembar jawaban yang telah Anda isi sebelum diserahkan kepada juri atau pengawas.

SOAL PILIHAN GANDA

1. Badan Informasi Geospasial (BIG) menyebutkan bahwa total panjang garis pantai Indonesia adalah 99.093 kilometer. Dengan demikian, Indonesia memiliki potensi untuk memproduksi bahan pangan dan industri berupa...
 - A. garam
 - B. ikan
 - C. mutiara
 - D. udang
2. Iklim ekstrim merupakan ancaman bagi sebagian wilayah di permukaan bumi. Berdasarkan letaknya, Indonesia banyak diuntungkan karena ...
 - A. iklim tropis yang lembab
 - B. curah hujan yang dapat diperkirakan
 - C. terhindar dari badai siklon
 - D. terhindar dari longsor salju
3. Perhatikan gambar berikut ini!



 = gunungapi

 = titik gempa

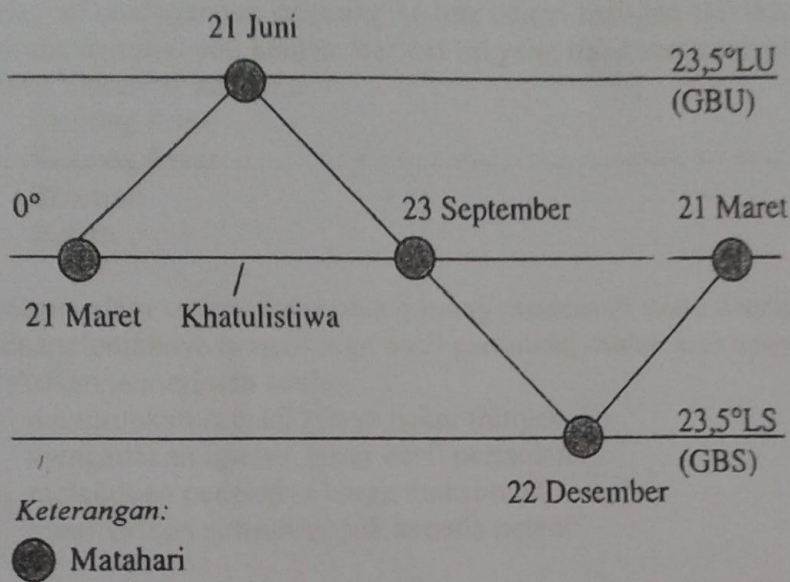
Sumber : <http://www.artikelbagus.com/2011/10>

Berdasarkan gambar di atas, Negara Indonesia dilalui oleh jalur gunungapi dari Banda Aceh hingga di Laut Banda. Hal ini sebagai akibat dari ...

- A. pertemuan antara Samudra Hindia dengan Samudra Pasifik
- B. adanya pergerakan samudera Hindia menekan Benua Asia
- C. pertemuan Benua Asia dengan Benua Australia
- D. adanya pergerakan Benua Asia menekan Benua Australia

4. Berikut ini adalah petani di Pulau Jawa yang sedang diuntungkan oleh peredaran Matahari ketika berada di belahan Bumi Selatan, yaitu petani...
- padi
 - sayur
 - tembakau
 - palawija

5. Perhatikan gambar berikut ini!



Berdasarkan gambar di atas, di Gorontalo pada bulan Agustus mengalami musim ...

- kemarau karena adanya angin musim dari Australia ke Asia
 - hujan karena adanya angin musim dari Australia ke Asia
 - kemarau dipengaruhi oleh angin Muson Barat
 - hujan dipengaruhi oleh angin Muson Barat
6. Ketika bumi berotasi dan berevolusi terhadap Matahari, semua permukaan bumi mengalami perubahan sebagai akibat dari dua gerakan bumi tersebut. Bagaimana dampak rotasi dan revolusi bumi terhadap keadaan di Indonesia?
- Kelembapan udara tinggi, angin berubah setiap musim, dan topografi bervariasi.
 - Penyinaran sepanjang tahun, temperatur udara stabil, dan topografi bervariasi.
 - Tekanan udara tinggi, angin berbalik arah di katulistiwa, dan topografi berbukit.
 - Curah hujan tinggi, tekanan udara tinggi, dan topografi datar.
7. Pelabuhan yang melayani jaringan transportasi antar pulau dan antar negara adalah jenis pelabuhan
- internasional
 - nasional
 - regional
 - lokal

8. Moda transportasi udara antar pulau memiliki banyak kelebihan antara lain...
- A. biaya penerbangan yang murah
 - B. tidak tergantung pada pada kondisi cuaca
 - C. pemeliharaan bandara yang murah dan ramah lingkungan
 - D. cocok untuk membawa barang yang mudah membusuk
9. Pelabuhan utama sekunder adalah pelabuhan utama yang diproyeksikan berfungsi melayani perdagangan langsung ke luar negeri maupun alih muat yang dilengkapi fasilitas terminal peti kemas. Berikut ini yang *tidak* termasuk kategori Pelabuhan Utama Sekunder adalah... .
- A. Tanjung Priok
 - B. Tanjung Emas
 - C. Belawan
 - D. Batam
10. Bencana alam seperti banjir dan gunung meletus di suatu daerah dapat berdampak pada melonjaknya harga-harga hasil pertanian. Salah satu upaya yang harus dilakukan pemerintah adalah... .
- A. menurunkan subsidi bahan bakar minyak
 - B. mengadakan operasi pasar hasil pertanian
 - C. melakukan penetapan harga maksimum
 - D. memberikan subsidi pupuk kepada petani
11. Peristiwa bencana alam memiliki dampak pada pergeseran pola konsumsi utama di daerah pedesaan, seperti dari beras ke jagung. Dalam hal ini jagung termasuk ke dalam jenis barang
- A. komplementer
 - B. substitusi
 - C. inferior
 - D. superior
12. Salah satu contoh interaksi antar-budaya dapat dilihat dari menyebarnya kerajinan batik di beberapa wilayah Indonesia. Dari sisi ekonomi, persaingan produsen batik termasuk dalam struktur pasar ...
- A. oligopoli
 - B. monopoli
 - C. persaingan sempurna
 - D. persaingan monopolistik
13. Sengkedan umumnya dikembangkan di daerah pertanian yang memiliki karakteristik ...
- A. kemiringan lereng $\geq 15\%$
 - B. curah hujan tahunan tinggi
 - C. kondisi tanah tidak stabil
 - D. tidak ada aliran sungai

14. Terasering dalam sistem pertanian *swak* dikembangkan dengan maksud untuk...
- mengurangi panjang lereng
 - meningkatkan kesuburan tanah
 - menambah aliran permukaan
 - meningkatkan produksi
15. Nelayan tradisional yang melaut menggunakan kapal layar memanfaatkan potensi alam berupa angin ...
- Laut
 - Darat
 - Muson
 - Pasat

Untuk soal no 16 dan 17 coba kamu perhatikan dengan baik kumpulan karakteristik masyarakat Pra aksara berikut ini:

Mengenal teknologi sederhana dan pembagian kerja untuk membuat alat-alat kebutuhan rumah tangga (1)	Memiliki pola berpikir sederhana dan dipengaruhi oleh faktor iklim dan kesuburan tanah (2)
Hidup mengembara sepanjang musim kemarau di wilayah yang sangat luas (3)	Melakukan kegiatan yang kompleks untuk memenuhi kebutuhan hidup guna kelangsungan kehidupan masyarakat (4)

16. Berdasarkan karakteristik di atas, urutan kehidupan masyarakat Pra aksara yang paling tepat adalah...
- (2), (3), (4), (1)
 - (2), (3), (1), (4)
 - (3), (2), (4), (1)
 - (1), (2), (3), (4)
17. Karakteristik masyarakat Pra aksara pada masa berburu dan meramu makanan ditunjukkan pada nomor...
- (4)
 - (3)
 - (2)
 - (1)
18. Istilah yang menunjukkan persamaan ciri kehidupan masa bercocok tanam dengan masa perundagian adalah...
- nomaden
 - sedentar
 - semi sedentar
 - semi nomaden

19. Perhatikan fungsi candi berikut ini!

- (1) Tempat beribadah.
- (2) Pemakaman raja.
- (3) Tempat raja bertemu rakyat.
- (4) Pendeta mengajar agama.

Fungsi awal candi sebagai peninggalan jaman Hindu-Buddha ditunjukkan pada pilihan... .

- A. (1) dan (3)
- B. (2) dan (4)
- C. (2) dan (3)
- D. (1) dan (4)

20. Pernyataan di bawah ini yang menggambarkan masuk dan berkembangnya agama Hindu-Budha di Indonesia sehingga mempengaruhi kehidupan masyarakat Indonesia adalah...

- A. stratifikasi sosial masyarakat Indonesia pada masa kini
- B. unsur-unsur kebudayaan Hindu-Budha dalam budaya Indonesia
- C. proses akulturasi yang melahirkan budaya Indonesia yang baru
- D. lunturnya unsur-unsur asli kebudayaan Indonesia

21. Pengaruh kebudayaan Hindu-Budha terhadap kehidupan sosial budaya masyarakat Indonesia pada masa Islam terlihat dari...

- A. lembaga pendidikan yang mengembangkan sistem asrama
- B. stratifikasi sosial masyarakat yang terus berubah setiap waktu
- C. pemeliharaan kelestarian alam untuk meningkatkan kemakmuran rakyat
- D. toleransi antar umat beragama yang diwujudkan dalam kegiatan beribadah

22. Pernyataan benar yang menunjukkan karakteristik kehidupan di bidang sosial budaya pada masa Kerajaan Malaka adalah...

- A. munculnya kelompok masyarakat golongan majikan dan buruh
- B. menghasilkan karya sastra yang menggunakan Bahasa Jawi
- C. menggunakan Bahasa Melayu sebagai bahasa pengantar perdagangan
- D. munculnya ahli-ahli tasawuf seperti Hamzah Fansuri dan Nuruddin ar-Raniri

23. Perbedaan kehidupan sosial budaya masyarakat pada masa Hindu Budha dengan masyarakat pada masa Islam terletak pada...

- A. tempat pendidikan
- B. stratifikasi sosial
- C. sistem mata pencaharian
- D. proses akulturasi


24. Perhatikan peninggalan sejarah berikut ini!

- (1) Menara Masjid Ampel
- (2) Menara Masjid Agung Demak
- (3) Menara Masjid Agung Banten
- (4) Menara Masjid Sultan Badaruddin Palembang
- (5) Menara Masjid Raya Baiturahman Aceh
- (6) Menara Masjid Kudus

Peninggalan yang menunjukkan adanya aspek sinkretisme dengan budaya sebelumnya adalah...

- A. (1), (2) dan (4)
- B. (1), (3) dan (6)
- C. (2), (4) dan (5)
- D. (4), (5) dan (6)

Untuk soal no 25 dan 26, coba kamu perhatikan peta pelayaran bangsa Portugis dan Spanyol di bawah ini dengan cermat!



Sumber : <http://www.slideshare.net/Divadeliani19>

25. Pernyataan yang benar berhubungan dengan pelayaran Portugis dan Spanyol mencari Dunia Timur yang ditunjukkan pada peta di atas adalah...

- A. Pelayaran awal Portugis dan Spanyol melewati wilayah-wilayah perdagangan yang berbeda
- B. Pelayaran awal Portugis dan Spanyol melewati wilayah-wilayah perdagangan yang sama
- C. Bangsa Portugis dan Spanyol sama-sama sampai di wilayah Filipina
- D. Baik Bangsa Portugis maupun Spanyol secara bersamaan sampai di Salvador

26. Wilayah kunci bagi kesuksesan pelayaran Portugis sampai di Ternate, Tidore, dan Macao adalah
- Kanton
 - Nagasaki
 - Veracruz
 - Mulaka
27. Pengaruh geostrategis munculnya Kolonialisme Barat di Indonesia adalah *kecuali*
- keramuffamatan penduduk kepada para pendatang
 - pegunungan yang menyebabkan kesuburan tanah
 - angin muson yang bertiup dengan pola tetap
 - iklim dengan musim hujan dan musim panas
28. Berdasarkan jenisnya, sumber daya alam dapat digolongkan menjadi
- Biotik dan Abiotik
 - Mineral dan Energi
 - Terrestrial dan Marine*
 - Renewable dan Unrenewable*
29. Sumber daya alam di bawah ini yang tidak dapat diperbaharui adalah
- padi, jagung, dan kedelai
 - udara, air, dan sinar matahari
 - kayu gelondongan
 - barang tambang
30. Pemanfaatan sumber daya alam yang *unrenewable* harus dilakukan secara bijak karena....
- Jumlahnya terbatas, proses pembentukannya sangat lama, hanya terdapat pada daerah tertentu
 - Jumlahnya terbatas, mempunyai nilai ekonomis yang tinggi, hanya terdapat pada daerah tertentu
 - Jumlahnya terbatas, proses pembentukannya sangat lama, mempunyai nilai ekonomis yang tinggi
 - Mempunyai nilai ekonomis yang tinggi, proses pembentukannya sangat lama, hanya terdapat pada daerah tertentu
31. Indonesia merupakan negara yang kaya dengan sumber daya mineral, karena sangat dipengaruhi oleh.....
- letak pada daerah tropis
 - jalur cincin api dunia
 - pengerakan lempeng tektonik
 - letak diantara dua benua

32. Di sejumlah daerah Indonesia, memiliki kekayaan bahan galian C. Bahan tambang tersebut sedikit tidak pernah habis karena ...
- pengaruh dari pergerakan lempeng samudera
 - batuan pasir mendominasi lempeng benua
 - letusan gunungapi dengan tipe letusan *explosive*
 - dilalui arus samudera yang membawa material pasir
33. Potensi Laut Indonesia yang dapat dimanfaatkan sebagai sumberdaya energi alternatif adalah
- ombak, panas air laut, dan pasang surut
 - arus, pasir kuarsa, dan pasang surut
 - angin, mangrove, dan plasma nutfah
 - kandungan garam, angin, dan ombak
34. Berikut ini merupakan alasan digunakannya air sebagai sumber energi listrik yang lebih baik dari minyak bumi, *kecuali* ...
- tergolong SDA terbaharukan
 - ramah lingkungan
 - jumlahnya relatif banyak
 - sebagai sarana transportasi
35. Berikut ini adalah daerah penghasil minyak bumi di Indonesia, *kecuali* ...
- Lhoksumawe, Dumai, dan Muara Enim
 - Jatibarang, Wonokromo, dan Cepu
 - Pulau Tarakan, Balikpapan, dan Pulau Bunyu
 - Makassar, Gorontalo, dan Kendari
36. Berikut ini yang *tidak* termasuk daerah penghasil timah adalah ...
- Pulau Sebako
 - Manggara
 - Dabo
 - Sungai Liat
37. Berikut ini adalah contoh masalah ekonomi yang sering dihadapi oleh pedagang.
- Apakah akan mempekerjakan orang lain atau cukup dikelola sendiri?
 - Mulai kapan usaha akan dijalankan?
 - Siapa yang akan menjadi target konsumen?
 - Apakah akan berjualan gorengan atau minuman ringan?
 - Berapa banyak keuntungan usaha yang akan didapatkan?
- Dari contoh masalah di atas, yang termasuk masalah pokok ekonomi modern ditunjukkan pada nomor ...
- (1), (3), dan (5)
 - (2), (3), dan (4)
 - (2), (3), dan (5)
 - (3), (4), dan (5)

38. Berikut ini adalah kegiatan yang dilakukan oleh keluarga Pak Dicky:

- (1) Belanja mingguan untuk keperluan keluarga setiap hari Sabtu pagi.
- (2) Mendaki gunung menjadi tempat favorit untuk rekreasi.
- (3) Menonton film di bioskop.
- (4) Membeli rumah secara kredit.
- (5) Berdo'a sebelum berangkat kerja atau sekolah.

Dari kegiatan keluarga Pak Dicky di atas, yang dapat digolongkan sebagai kebutuhan rohani adalah...

- A. (1), (2), dan (3)
- B. (1), (3), dan (4)
- C. (2), (3), dan (4)
- D. (2), (3), dan (5)

39. Tiga kelompok pengambil keputusan dalam perekonomian adalah....

- A. rumah tangga, perusahaan, dan perbankan
- B. rumah tangga, perusahaan, dan pemerintah
- C. perusahaan, pemerintah, dan perbankan
- D. rumah tangga, perusahaan, dan perbankan

40. Kurva permintaan yang dihadapi perusahaan dalam pasar oligopoli adalah....

- A. sangat elastis
- B. sangat inelastis
- C. bagian atas inelastis, bagian bawah elastis
- D. bagian atas elastis, bagian bawah inelastis

41. Menjelang lebaran harga kebutuhan sembako diprediksi akan meningkat, hal ini disebabkan oleh permintaan sembako yang....

- A. meningkat dan penawaran meningkat
- B. meningkat dan penawaran menurun
- C. menurun dan penawaran menurun
- D. menurun dan penawaran meningkat

42. Operasi pasar adalah tindakan yang bertujuan menstabilkan harga daging sapi yang melonjak tinggi, karena operasi pasar dapat mempengaruhi...

- A. rasa takut pedagang untuk menjual dengan harga tinggi
- B. kuantitas yang ditawarkan meningkat di pasar
- C. harga jual pemerintah rendah
- D. harga jual pemerintah tinggi

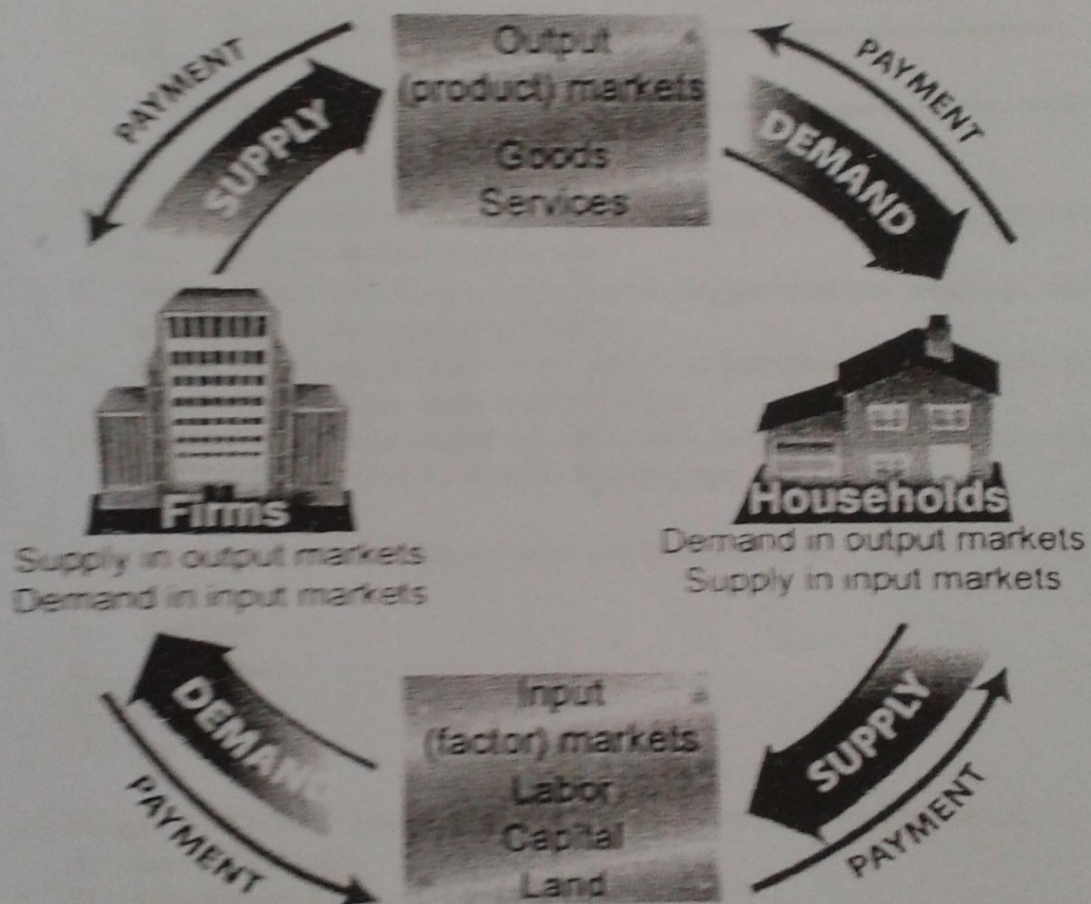
43. Berikut ini merupakan kegiatan Rumah Tangga Konsumsi (RTK) dan Rumah Tangga Produksi (RTP):

- (1) Menjual barang dan jasa hasil produksi
- (2) Menyediakan faktor-faktor produksi
- (3) Membayar balas jasa atas penyerahan faktor produksi
- (4) Menerima balas jasa atas pemakaian faktor produksi

Peranan rumah tangga konsumsi dalam kegiatan ekonomi yaitu....

- A. (1) dan (3)
- B. (1) dan (4)
- C. (2) dan (3)
- D. (2) dan (4)

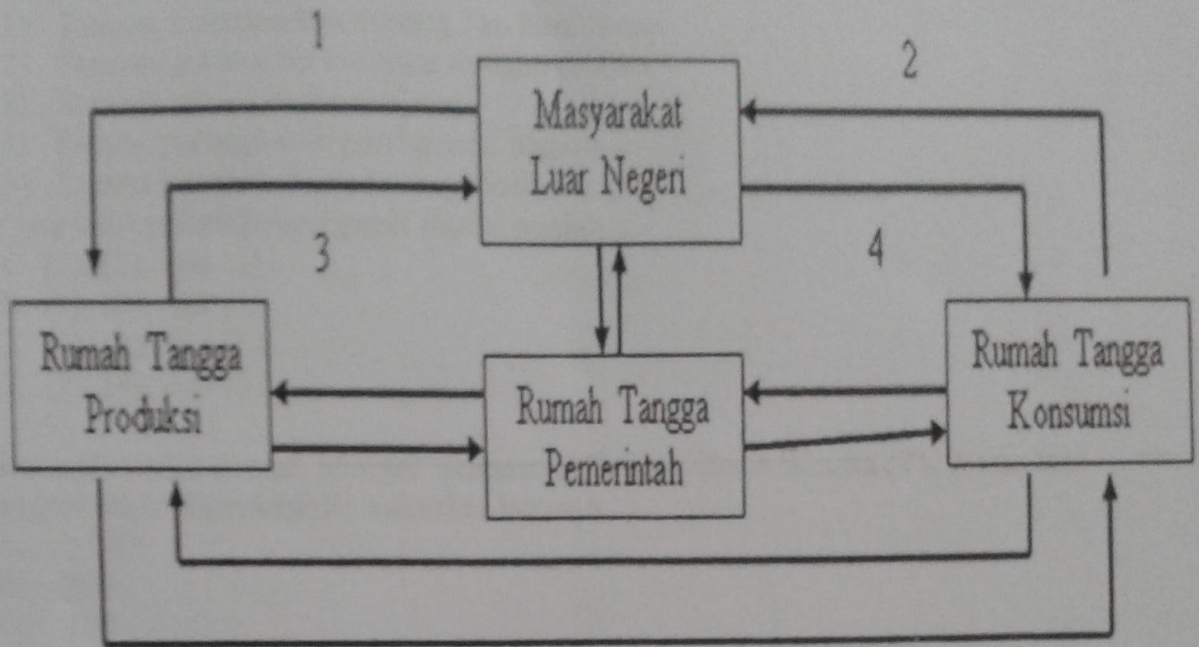
44. Perhatikan gambar berikut ini!



Berdasarkan gambar di atas, penawaran faktor-faktor produksi datang dari rumah tangga

- A. konsumsi
- B. produksi
- C. pemerintah
- D. luar negeri

45. Perhatikan bagan berikut ini!



Berdasarkan bagan di atas, nomor 1 menunjukkan...

- A. ekspor faktor-faktor produksi dari rumah tangga konsumsi sehingga masyarakat luar negeri melakukan pembayaran
 - B. impor bahan baku industri oleh rumah tangga konsumsi sehingga masyarakat luar negeri memperoleh pendapatan
 - C. pendapatan yang diterima oleh rumah tangga produksi dari hasil penjualan barang/jasa kepada masyarakat luar negeri
 - D. ekspor barang yang dilakukan oleh rumah tangga konsumsi kepada masyarakat luar negeri sehingga memperoleh pendapatan
46. Fungsi pasar dalam membangkitkan minat konsumen untuk membeli barang atau jasa adalah....
- A. distribusi
 - B. pemasaran
 - C. produksi
 - D. promosi
47. Fungsi pasar dalam pembentukan harga dapat ditunjukkan oleh adanya...
- A. kenaikan harga
 - B. kesepakatan harga
 - C. penurunan harga
 - D. potongan harga

48. Perhatikan pernyataan fungsi pasar di bawah ini!

- (1) Tempat memasarkan barang dan komoditas
- (2) Tempat pertemuan investor dengan emiten
- (3) Sumber dana jangka panjang
- (4) Sarana peningkatan pendapatan negara
- (5) Sarana penambahan modal bagi badan usaha

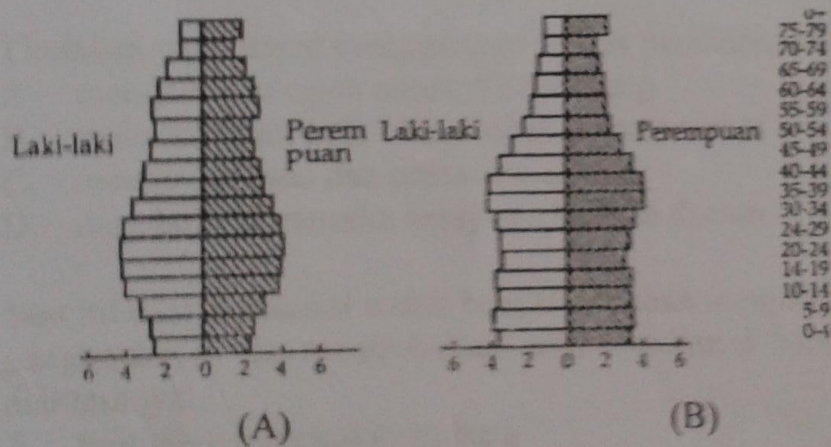
Yang merupakan fungsi pasar modal adalah... .

- A. (1), (2), dan (3)
- B. (1), (3), dan (5)
- C. (2), (3), dan (5)
- D. (3), (4), dan (5)

49. *Sex ratio* suatu daerah sebagai "pemasok" Tenaga Kerja Wanita (TKW) ke luar negeri dapat diperkirakan memiliki besaran....

- A. > 200
- B. 200
- C. 100
- D. < 100

50. Perhatikan piramida penduduk di bawah ini!



Kebijakan pemerintah yang tepat jika negara tersebut memiliki piramida penduduk bentuk (A) adalah....

- A. Pro natalitas
- B. Pro mortalitas
- C. Transmigrasi
- D. Keluarga Berencana

51. Perhatikan tabel berikut ini!

Tahun	1971 - 1980	1990 - 2000	2010 - 2014
Laju pertumbuhan penduduk	2,31	1,49	1,40

Berdasarkan tabel di atas, laju pertumbuhan penduduk Indonesia paling tinggi terjadi pada tahun 1971 - 1980 karena

- A. tingginya natalitas dan rendahnya mortalitas
 - B. rendahnya tingkat pendidikan
 - C. banyaknya pernikahan di usia muda
 - D. kurangnya kesadaran kesehatan
52. Kepadatan penduduk di Pulau Jawa sudah terjadi pada jaman penjajahan dan telah dilakukan pemerataan ke Pulau Sumatera Utara, Lampung dan daerah lainnya untuk memenuhi kebutuhan tenaga kerja perkebunan. Usaha pemerintah kolonial tersebut mirip dengan kebijakan...
- A. transmigrasi
 - B. imigrasi
 - C. romusha
 - D. kerja rodi
53. Tindakan yang dapat mengganggu proses pembangunan di bawah ini adalah....
- A. mengelola sampah untuk didaur ulang
 - B. melaksanakan pola hidup sehat di masyarakat
 - C. merusak sarana dan prasarana umum
 - D. membuka wirausaha kerajinan budaya daerah
54. Saat ini daerah transisi sudah banyak berubah menjadi daerah perkotaan. Proses pengkotaan di atas menimbulkan permasalahan di bidang kependudukan yaitu diantaranya...
- A. tumbuhnya pemukiman baru
 - B. bertambahnya pengangguran
 - C. bertambahnya pusat perbelanjaan
 - D. meluasnya alih fungsi lahan
55. Kehadiran rumah susun sederhana milik (Rusunami) merupakan salah satu solusi untuk mengatasi permasalahan kependudukan di kota besar antara lain karena dapat
- A. mengurangi daerah kumuh di perkotaan
 - B. peningkatan tindak kriminalitas
 - C. minimnya fasilitas publik
 - D. mengurangi konflik sosial
56. Berikut ini adalah faktor penurunan laju pertumbuhan penduduk, kecuali....
- A. keberhasilan sosialisasi program KB kepada masyarakat
 - B. semakin bertambahnya usia mematai pernikahan
 - C. kesadaran untuk melakukan pola hidup sehat
 - D. menunda memiliki anak untuk menanggung biaya di pekerjaan

57. Ikatan kerjasama antar warga masyarakat di daerah perkotaan modern yang didasari oleh adanya ketergantungan yang tinggi dikenal dengan istilah....
- solidaritas mekanis
 - solidaritas organis
 - paguyuban
 - patembayan
58. Keadaan penduduk dapat dikatakan sedang mengalami bonus demografi jika memiliki ciri...
- angka ketergantungan yang tinggi
 - angka ketergantungan yang rendah
 - persebaran penduduk yang merata
 - kelahiran lebih tinggi daripada kematian
59. Pada saat Indonesia mengalami bonus demografi, persoalan utama yang mungkin akan muncul adalah....
- sulitnya penyediaan lapangan pekerjaan
 - meningkatkan akses pendidikan dasar
 - meningkatkan devisa negara dan ekspor
 - transportasi dan komunikasi antar pulau
60. Meningkatnya jumlah penduduk usia produktif menyebabkan
- meningkatnya partisipasi murni
 - meningkatnya ketergantungan
 - menurunnya ketergantungan
 - menurunnya angka partisipasi kasar
61. Tantangan yang di hadapi Indonesia dalam memasuki Masyarakat Ekonomi ASEAN (MEA) salah satunya adalah meningkatkan daya saing UMKM Indonesia dengan UMKM negara ASEAN lainnya. Untuk mengatasi tantangan tersebut pemerintah perlu melakukan....
- gerakkan Aku Cinta Produksi dalam negeri
 - menaikkan impor barang pertanian
 - menaikkan impor bahan baku
 - menurunkan ekspor UMKM
62. Fenomena yang paling mungkin terjadi di Indonesia pasca terbentuknya Masyarakat Ekonomi ASEAN adalah harga
- harga barang-barang naik akibat membanjirnya produk import
 - produk lokal akan naik dengan pesat sebagai akibat persaingan
 - barang impor dari negara-negara ASEAN lebih mahal
 - barang impor dari negara-negara ASEAN lebih murah

63. Masyarakat Ekonomi ASEAN merupakan "anak kandung" dari globalisasi, tantangan yang dihadapi oleh tenaga kerja Indonesia yang bergerak di sektor UMKM adalah meningkatkan
- infrastruktur
 - permodalan
 - bahan baku
 - produktivitas
64. Kehadiran pengrajin sapu lidi di kampung Sindangheula Serang-Banten, Tenun di Lombok Nusa Tenggara, kain Songket Palembang, Industri Dodol Durian di Riau patut dihargai karena telah memanfaatkan kekayaan alam Indonesia. Namun usaha mereka *tidak* dapat berkembang secara positif, jika melakukan hal-hal berikut
- kerjasama dengan dalam hal pemasaran produk
 - persaingan antar pedagang untuk menjual dengan kualitas terbaik
 - melakukan persaingan dengan melakukan perang harga
 - menggunakan teknologi tepat guna untuk meningkatkan hasil
65. Berkembangnya batik di berbagai kawasan Indonesia merupakan hasil bentuk interaksi
- persaingan
 - kerjasama
 - akulturasi
 - asimilasi
66. Peran masyarakat konsumen dalam mengantisipasi dampak pemanfaatan pupuk kimia hasil teknologi modern adalah
- menggunakan produk makanan organik
 - mengurangi pemanfaatan pupuk kimia
 - penggunaan teknologi ramah lingkungan
 - menyesuaikan waktu tanam dengan musim
67. Fungsi keluarga untuk mengurangi angka kenakalan remaja adalah melalui kegiatan....
- sosialisasi
 - afeksi
 - aktualisasi
 - ekonomi
68. Penertiban PKL adalah bentuk kontrol sosial. Usaha manakah yang *tidak* selaras dengan kegiatan penertiban PKL?
- Menjaga ketertiban umum.
 - Meningkatkan kebersihan kota.
 - Memberdayakan pengusaha kecil.
 - Memanfaatkan fasilitas publik.

69. Peran pemerintah yang mengharuskan perusahaan lokal melibatkan masyarakat sekitar sekurang-kurangnya 60% untuk bekerja di perusahaan tersebut merupakan bukti adanya fungsi pemerintah sebagai...
- A. pembuat regulasi di daerah
 - B. fasilitator pertemuan 2 pihak
 - C. pelaku mediasi saat konflik
 - D. lembaga kontrol sosial
70. Keluarga Reina berasal dari Maluku. Ia lahir dan dibesarkan di Kota Surabaya, tetapi masih tetap diajari untuk mampu berbahasa dan mengenal adat istiadat Maluku. Di sekolahnya, ia bergaul dengan teman-teman dari berbagai etnik di Indonesia. Sikap yang akan terbentuk pada diri Reina adalah
- A. Integrasi budaya
 - B. pewarisan kebudayaan
 - C. akulturasi budaya
 - D. asimilasi budaya
71. Pernyataan yang tepat untuk menggambarkan bekerjanya lembaga sosial adalah....
- A. seorang buruh tetap bekerja tekun walaupun upahnya sudah tiga tahun tidak pernah mengalami kenaikan
 - B. organisasi guru terus melakukan aksi demonstrasi kepada pemerintah agar memperhatikan nasibnya.
 - C. menjelang hari Raya Idul Fitri, Natal dan tahun baru, harga sembako melonjak tinggi
 - D. sekolah mengintensifkan pembinaan mental/rohani disamping bimbingan belajar menjelang ujian nasional
72. Pernyataan yang merupakan fungsi laten dari lembaga pendidikan adalah....
- A. meningkatkan kemampuan adaptasi sosial di masyarakat
 - B. meningkatkan keterampilan dalam berkomunikasi
 - C. memberi bekal keterampilan kepada anak
 - D. membantu keluarga dalam pengasuhan anak
73. Faktor sosial-budaya yang mempengaruhi lahirnya pergerakan nasional di Indonesia adalah....
- A. dihapuskannya kedudukan raja dan sultan dalam kehidupan masyarakat Indonesia
 - B. tidak ada toleransi antar umat beragama dalam kehidupan masyarakat di Indonesia
 - C. munculnya golongan terpelajar yang dijadikan pegawai pemerintahan Hindia Belanda
 - D. sistem stratifikasi sosial yang diterapkan pemerintah Hindia Belanda

74. Kesadaran akan keragaman sosial budaya dalam perjuangan pergerakan nasional dengan jelas ditunjukkan pada organisasi

- A. Jong Java
- B. Volksraad
- C. Sarikat Islam
- D. Parindra

75. Perhatikan organisasi pergerakan nasional berikut ini!

- (1) Budi Utomo
- (2) Perhimpunan Indonesia
- (3) Paguyuban Pasundan
- (4) PNI

Organisasi yang bersifat nasional ditunjukkan pada pilihan berikut,

- A. (1) dan (3)
- B. (2) dan (4)
- C. (2) dan (3)
- D. (1) dan (4)

76. Ciri negara maju dilihat dari mata pencaharian penduduknya adalah bekerja pada sektor

- A. pertanian dan industri
- B. industri dan jasa
- C. pariwisata dan peternakan
- D. perdagangan dan pariwisata

77. Perhatikan pernyataan berikut tentang indikator perkembangan suatu negara!

- (1) Pendapatan rata-rata penduduknya tinggi
- (2) Tingkat pendidikan penduduk tinggi
- (3) Angka harapan hidup tinggi
- (4) Tingkat pertumbuhan penduduknya tinggi
- (5) Tingkat ketergantungan alam rendah
- (6) Tingkat kematian ibu melahirkan tinggi

Yang termasuk ciri negara maju adalah

- A. (1), (2), (3), dan (4)
- B. (1), (2), (4), dan (6)
- C. (2), (3), (4), dan (5)
- D. (3), (4), (5), dan (6)

78. Diketahui jumlah penduduk dan GNP beberapa Negara tahun 2012:

No.	Negara	Jumlah penduduk	GNP (juta US \$)
1.	G	90	600
2.	H	150	3.750
3.	J	250	5.000
4.	K	450	5.600

Berdasarkan tabel di atas, negara yang paling maju dilihat dari pendapatan perkapitanya adalah

- A. G
- B. H
- C. J
- D. K

79. Indonesia secara astronomis terletak di antara 6° LU – 11° LS. Kepulauan paling selatan adalah

- A. P. Solor
- B. P. Rote
- C. P. Alor
- D. P. Flores

80. Wilayah Indonesia terletak di antara 95° BT dan 141° BT. Bila dihitung dari meridian Greenwich, Indonesia berada di wilayah bagian

- A. Timur
- B. Barat
- C. Utara
- D. Selatan

81. Dalam kegiatan industri, Indonesia memiliki potensi sebagai negara maju karena....

- A. kekayaan alamnya melimpah
- B. jumlah penduduknya besar
- C. wilayahnya sangat luas
- D. tanahnya subur makmur

82. Sistem masyarakat dengan stratifikasi terbuka dapat mendorong terjadinya perubahan sosial karena....

- A. sistem tersebut berkaitan dengan terjadinya penemuan baru
- B. ketidakpuasan masyarakat dapat mendatangkan revolusi sosial
- C. anggota masyarakat termotivasi untuk meningkatkan kedudukannya
- D. kehidupan yang terasing membuat masyarakat cenderung menolak perubahan

83. Max Weber tidak setuju dengan konsep kelas sosial yang dikemukakan oleh Karl Marx bahwa kelas sosial sebenarnya tidak hanya ditentukan oleh faktor kepemilikan saja melainkan ada dua faktor pendukung lain yaitu....

- A. prestise dan kekuasaan
- B. faktor budaya dan kekuasaan
- C. relasi dan faktor budaya
- D. modal dan kekuasaan

90. Uang yang beredar saat ini nilai intrinsik-nya jauh di bawah nilai nominalnya, namun uang tersebut tetap memiliki nilai sehingga uang jenis ini dikategorikan sebagai
- A. *token money*
 - B. *full bodied money*
 - C. *semi full bodied money*
 - D. *quasy money*
91. Contoh organisasi perdagangan bebas di kawasan Asia Pasifik adalah
- A. MEE
 - B. AFTA
 - C. APEC
 - D. OPEC
92. Keuntungan komparatif dari perdagangan internasional adalah
- A. menghasilkan produk lebih banyak jika dibandingkan dengan negara lain
 - B. menghasilkan produk dengan biaya yang lebih murah dibanding negara lain
 - C. bersaing dalam menghasilkan produk yang lebih bermutu dibanding negara lain
 - D. menghasilkan produk yang lebih digemari masyarakat di berbagai negara
93. Manfaat perdagangan internasional bagi perekonomian Indonesia adalah meningkatnya efisiensi dalam kegiatan....
- A. konsumsi
 - B. distribusi
 - C. produksi
 - D. promosi
94. David Mc.Lelland berpendapat bahwa salah satu cara untuk membangun sikap mental modern adalah dengan memupuk *Need for Achievement* (N.Ach), berupa virus untuk mengajak individu berprestasi. Manakah di antara pernyataan berikut yang mendukung wacana tersebut?
- A. semangat berprestasi merupakan syarat kemajuan suatu bangsa
 - B. semangat berprestasi merupakan symbol keangkuhan individu
 - C. kompetisi dalam memperbutkan juara terbaik bukti bahwa manusia egois
 - D. memupuk mental berprestasi hanya tanggung jawab sekolah saja
95. Pernyataan di bawah ini yang menunjukkan perlunya penyesuaian perilaku masyarakat dalam menyikapi perubahan adalah
- A. bergesernya moda angkutan massal busway
 - B. peningkatan fungsi pelayanan Kantor Pos
 - C. berkurangnya peminat angkutan umum ojek
 - D. menjamurnya ekspedisi ke luar negeri

96. Menurut Koentjaraningrat, salah satu sikap mental yang perlu dimiliki Bangsa Indonesia untuk menjadi manusia modern adalah disiplin dan memiliki etos kerja keras. Manakah pernyataan di bawah ini yang tidak mendukung wacana tersebut?
- Datang tepat waktu ke sekolah adalah sikap awal pembentukan kepribadian
 - Rajin mengerjakan tugas sekolah tidak berkorelasi dengan pembentukan kepribadian
 - Belajar berbagai keterampilan merupakan modal untuk menjadi manusia modern
 - Aktif dalam berbagai organisasi intra-ekstra kurikuler bermanfaat untuk masa depan
97. Kemunculan sarana transportasi berbasis aplikasi *online* membuat masyarakat berubah perilaku dari menggunakan transportasi massal menjadi transportasi umum roda dua (ojek). Perubahan tersebut dipengaruhi oleh:
- mahalnya harga kendaraan
 - macetnya jalanan di kota besar
 - sulitnya akses transportasi publik
 - kemajuan teknologi ponsel
- Pernyataan di atas yang benar ditunjukkan pada nomor
- 1 dan 2
 - 2 dan 3
 - 3 dan 4
 - 1 dan 4
98. Pergeseran perilaku berbelanja dari langsung menjadi tidak langsung melalui media internet terjadi karena....
- variasi barang yang dijual lebih banyak
 - dinilai praktis dan efisien
 - harganya relatif lebih murah
 - mudah bisa diakses dimana saja
99. Hadirnya budaya *cosplay* (meniru pakaian atau atribut ala tokoh komik Jepang) di kalangan generasi muda merupakan gejala adanya proses sosial....
- sugesti
 - identifikasi
 - imitasi
 - simpati
100. Dalam konteks pewarisan budaya, pernyataan yang tepat di bawah ini adalah
- melestarikan kesenian daerah merupakan kewajiban putra-putri daerah
 - mempelajari berbagai kesenian daerah adalah wujud kecintaan tanah air
 - melestarikan kebudayaan Indonesia berarti turut melestarikan upaya integrasi bangsa
 - mempelajari dan melestarikan kebudayaan Indonesia tugas dari lembaga pendidikan

SELESAI