

Kobarkan Semangat,
Raih Prestasi, dalam Ajang
Olimpiade Sains Nasional


OSN.KK.S.R4

RAHASIA NEGARA

TINGKAT KABUPATEN/KOTA



SOAL
OLIMPIADE SAINS NASIONAL SMP
TINGKAT KABUPATEN/KOTA
TAHUN 2018



Olimpiade
Sains
Nasional

BIDANG STUDI ILMU PENGETAHUAN SOSIAL

KEMENTERIAN PENDIDIKAN DAN KEBUDAYAAN
DIREKTORAT JENDERAL PENDIDIKAN DASAR DAN MENENGAH
DIREKTORAT PEMBINAAN SEKOLAH MENENGAH PERTAMA
TAHUN 2018

1. Jenis tanah humus adalah jenis tanah organisol. Tanah ini cocok untuk budidaya tanaman padi, nenas dan kelapa. Hal ini disebabkan tingginya kandungan ...
- Silikat.
 - Hara.
 - Mineral
 - Air

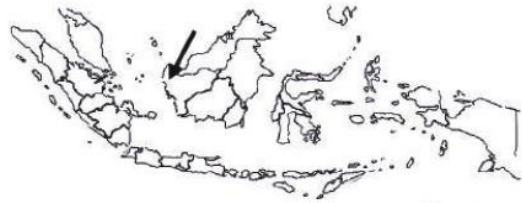
2. Perhatikan tabel macam-macam kebutuhan di bawah ini !

A	B	C
1. Sepeda motor	1. Perhiasan	1. Mobil
2. Pupen dan Pensil	2. Tas sekolah	2. Laptop
3. Sepatu olah raga	3. Handphone	3. Buku Pelajaran

Berdasarkan tabel di atas, yang termasuk kebutuhan sekunder bagi siswa SMA adalah..

- A1, B1, dan C1
 - A1, B2, dan C2
 - A3, B2, dan C2
 - A3, B2, dan C3
3. Apa yang dilakukan oleh lembaga pendidikan agar siswa dapat belajar nilai kedaerahan sambil mengembangkan potensi wisata daerah ?
- Sekolah mengembangkan kegiatan ekstrakurikuler seni tari daerah
 - Mengikuti program "homestay" untuk tinggal mempelajari budaya tertentu
 - Mengembangkan kurikulum tematik bertema nasionalisme dan persatuan bangsa
 - Program kerjasama sekolah beda propinsi untuk pengembangan seni dan budaya

4. Perhatikan peta Indonesia berikut!



Tanda panah tersebut menunjukkan bandar udara...

- Cilik Riwut
 - Supadio
 - Sepinggan
 - Juwata*
5. Perhatikan tabel jumlah penduduk dan GNP beberapa negara di dunia !

No	Negara	Jumlah Penduduk (juta)	GNP (juta US \$)
1	W	90	8500
2	X	350	5000
3	Y	400	1000
4	Z	600	6500

Berdasarkan tabel di atas, negara yang paling maju dalam pertumbuhan ekonominya adalah

- ...
- W
 - X
 - Y
 - Z

6. Lengkapi *timeline* awal sejarah perjuangan bersenjata Bangsa Indonesia berikut ini :

13-10-45	28-10-45	20-11-45	4-03-45
Medan Area	Petempuran Surabaya	Bandung Lautan Api

- Manakah kelengkapan *timeline* berikut ini yang benar ?

- A. Pertempuran Banjarmasin, 11-10-1945, Pertempuran 5 hari Semarang
 B. Perang Palembang, 09- 12-1945, Pertempuran Manado
 C. Padang Area, 10-11-1945, Pertempuran Ambarawa
 D. Malang Area, 28-10-1945, Serangan Umum ke Yogyakarta
7. Perbedaan pokok pasar konkrit dan pasar abstrak, dapat diidentifikasi berdasarkan ...
 A. Jenis barang yang diperjualbelikan
 B. Manajemen pelayanan pasar
 C. Komunikasi antara penjual dan pembeli
 D. Jumlah penjualan barang

8. Perhatikan pernyataan berikut!

- (1) Kehidupan politik berbasis demokrasi dan penegakan hukum.
 (2) Pembangunan ekonomi mengandalkan bantuan modal asing.
 (3) Sektor maritim dan infrastruktur menjadi prioritas pembangunan.
 (4) Sektor agraris berbasis pembangunan pedesaan menjadi prioritas.
 (5) Menguatnya masyarakat madani terutama peran ormas dan pers.
 (6) Menguatnya peran militer melalui penerapan konsep dwi fungsi.

Pernyataan-pernyataan yang dapat dikategorikan sebagai ciri pada masa Orde Baru adalah ...

- A. (1), (2), dan (3)
 B. (4), (5), dan (6)
 C. (1), (3), dan (5)
 D. (2), (4), dan (6)

9. Gambar aktifitas nelayan di bawah ini menunjukkan bentuk interaksi manusia dalam kegiatan ...

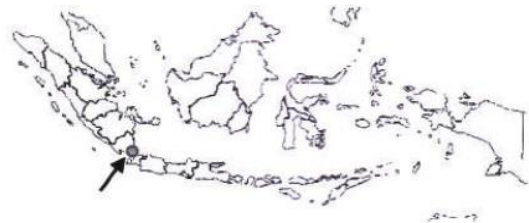


- A. Budaya
 B. Politik
 C. Sosial
 D. Ekonomi

10. Imunisasi MMR (*Mumps, Measles, Rubella*) ditujukan untuk mencegah penyakit ...

- A. Cacar
 B. Tetanus
 C. Gondong
 D. Tuberkolosis

11. Perhatikan peta kepulauan Indonesia berikut!



Lokasi yang ditunjukkan oleh tanda panah adalah pelabuhan laut ...

- A. Muara
 B. Belawan
 C. Bakauheuni
 D. Tembilahan

12. Indonesia berada tidak jauh dari zona subduksi. Gejala yang timbul dari kondisi ini adalah banyaknya rangkaian gunung berapi. Oleh karena itu gempa yang paling sering terjadi adalah ...

- A. Vulkanik dan tektonik
 B. Tektonik dan runtunan
 C. Runtunan dan terban
 D. Terban dan vukanik

13. Pernyataan yang benar terkait sifat prasasti dan asal kerajaan ditunjukkan pada ...
- Prasasti Nalanda bersifat buddhis berasal dari kerajaan Kutai.
 - Prasasti Tugu bersifat hinduistis berasal dari kerajaan Mataram Kuno.
 - Prasasti Kedukan Bukit bersifat buddhis berasal dari kerajaan Sriwijaya.
 - Prasasti Canggal bersifat hinduistis berasal dari kerajaan Majapahit.

14. Perhatikan foto flora berikut!



Flora *Moras Macraura* pada gambar di atas berasal dari Indonesia bagian ...:

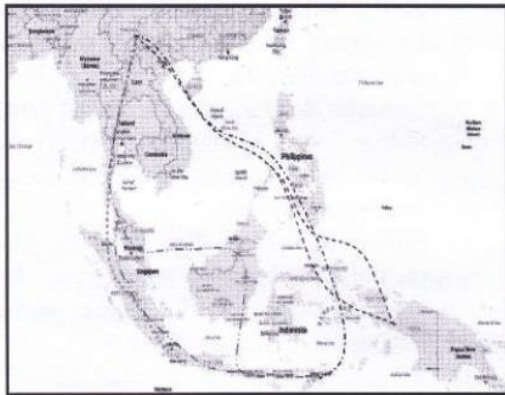
- Barat
 - Tengah
 - Timur
 - Utara
15. Perhatikan konsep intensifikasi dan ekstensifikasi di bidang sektor industri berikut!
- Mengurangi jumlah kecelakaan kerja,
 - Menambah jumlah tenaga kerja,
 - Menyelenggarakan pelatihan,
 - Menambah jumlah mesin baru,
- Kegiatan yang termasuk intensifikasi produksi ditunjukkan pada ...
- (1) dan (2)
 - (1) dan (3)
 - (2) dan (3)
 - (3) dan (4)
16. Pernyataan yang benar terkait tokoh, peristiwa atau karyanya pada masa perkembangan kerajaan Islam di Indonesia ditunjukkan pada ...

- Pemberian izin kepada James Lancaster dari Sultan Iskandar Muda untuk berdagang di Aceh adalah taktik untuk melawan Belanda.
- Cornelis de Houtman mendapat izin dari Sultan Ali Mughayat Syah untuk berbelanja di Makasar adalah taktik untuk melawan Portugis.
- Sultan Baabullah dari kerajaan Ternate menjalin hubungan yang erat dengan kerajaan Goa- Tallo untuk mengusir Portugis
- Serangan Demak ke Malaka tahun 1513 di bawah pimpinan Patih Unus adalah untuk mengusir para pedagang Belanda.

17. Wilayah Indonesia yang memiliki tipe iklim *Af* antara lain ...
- Sumatera
 - Sebagian besar Jawa
 - Sulawesi Tenggara
 - Pantai Selatan Papua

18. Awal masa penjajahan Barat di Indonesia didorong oleh politik ekonomi Merkantilis. Hal ini dapat diidentifikasi dari karakter organisasi dagang VOC yang lebih mementingkan aspek ...
- Perdagangan
 - Industri
 - Militer
 - Politik

19. Perhatikan Peta berikut!



Jalur migrasi nenek moyang bangsa Indonesia dengan peninggalan tradisi Kapak Lonjong ditunjukkan dengan tanda ...

- A. - - - - -
- B.
- C.
- D. - . . . -

20. Perhatikan ciri-ciri struktur pasar pada tabel di bawah ini !

A	B	C
1. Banyak penjual jenis barang tertentu	1. Barang yang diperjual belikan homogen	1. Barang dapat saling menggantikan
2. Pembeli bisa mengatur harga	2. Penjual bisa mengatur harga	2. Informasi yang tersedia cukup lengkap
3. Tidak ada campur tangan pemerintah	3. Hanya ada seorang penjual	3. Hanya terdapat beberapa orang penjual

Berdasarkan tabel di atas, karakteristik pasar persaingan monopolistik adalah ...

- A. A1, B1, dan C2
- B. A1, B2, dan C1
- C. A2, B2, dan C2
- D. A3, B1, dan C1

21. Perhatikan upacara “Pesta Laut” di bawah ini.



Jika dilihat dari peralatan dan benda-benda yang digunakan, menunjukkan bentuk interaksi manusia dengan kebudayaan ...

- A. Materi
- B. Materi
- C. Rohani
- D. Artefak

22. Peranan utama rumah tangga pemerintah dalam arus lingkaran kegiatan ekonomi (*circular flow of economic activity*) adalah ...

- A. Pengguna faktor produksi
- B. Pemasok faktor produksi
- C. Pengatur kegiatan ekonomi
- D. Penerima barang dan jasa

23. Perhatikan gambar rumah adat Suku Laut Bajo di bawah ini!



Rumah tersebut menunjukkan bentuk interaksi manusia dengan....

- A. Sistem kepercayaan
- B. Lingkungan budaya
- C. Lingkungan alam
- D. Lingkungan social

24. Ciri-ciri kehidupan sosial budaya masyarakat Indonesia pada periode Mezolitikum adalah tradisi ...
- Kapak Lonjong dan berburu meramu tingkat sederhana.
 - Lukisan di dinding gua dan berburu meramu tingkat lanjut.
 - Lukisan di dinding gua dan bercocok tanam
 - Candrasa dan bercocok tanam

25. Perhatikan Peta di bawah!



Letak daerah Yunan sebagai wilayah asal nenek moyang bangsa Indonesia ditunjukkan oleh angka berikut :

- 1
 - 2
 - 3
 - 4
26. Perhatikan promosi berikut ini!

The poster features a cartoon character and the text 'Nikmati Makanan Menggugah Selera Dengan Nuansa Khas Priangan'. It lists various food items and their prices, such as 'Mie Ayam', 'Bakso', 'Kemplang', and 'Pisang Goreng'. The Metro Indah Mall logo is at the top.

“RAOS” adalah festival budaya untuk memperkenalkan makanan khas Priangan disertai sajian musik tradisional Sunda. Kegiatan ini dinilai positif untuk meningkatkan minat masyarakat. Manakah tindakan kontraproduktif berikut ini yang

dapat menghambat kesuksesan festival budaya ini?

- Mendorong pengusaha lokal untuk berpartisipasi aktif dalam festival.
 - Pemerintah dan swasta bekerja sama menyediakan ruang pameran untuk festival
 - Festival menyajikan seni musik Sunda garapan komunitas lokal
 - Membuang sampah sisa makanan di sekitar areal festival
27. Perhatikan konsep-konsep berikut ini!
- Raffles
 - Van Den Bosch ✓
 - Pajak berupa hasil bumi ✓
 - Pajak berupa uang ✓
 - Tanaman ditentukan oleh penduduk
 - Tanaman ditentukan oleh pemerintah
 - 1811-1816
 - 1830-1870
- Ciri-ciri Sistem Tanam Paksa ditunjukkan pada pilihan berikut ini,
- (1), (4), (5), dan (7)
 - (1), (3), (6), dan (8)
 - (2), (3), (6), dan (8)
 - (2), (4), (5), dan (7)

28. Manakah lembaga sosial yang paling efektif untuk mencegah, menangkal dan menanggulangi penyimpangan sosial tawuran pelajar ?

- Keluarga
- Agama
- Politik
- Sosial

29. Perhatikan data perjuangan diplomasi melalui KMB berikut ini!

- Belanda mengakui kedaulatan atas RIS
- Drs. Moh Hatta memimpin delegasi RI
- Konferensi diselenggarakan di Den Haag
- Sultan Hamid II memimpin delegasi BFO

Pernyataan di atas yang mencerminkan Konferensi Antar Indonesia sebagai latar belakang diselenggarakannya KMB adalah ...

- (1) dan (3)
- (2) dan (4)
- (1) dan (2)
- (3) dan (4)

30. Manakah pernyataan berikut ini yang tidak termasuk dampak globalisasi dan pembangunan ekonomi terhadap tata nilai dan institusi keluarga ?
- Minat generasi muda untuk menikah dan memiliki keturunan rendah
 - Melakukan imitasi perilaku orang barat yang tidak sejalan dengan nilai timur
 - Orang lebih fokus kepada nuclear family karena sikap individualisme
 - Orangtua sibuk untuk bekerja sehingga anak-anak kurang mendapat perhatian
31. AFTA sebagai organisasi ekonomi internasional diharapkan dapat meningkatkan ...
- Daya saing ekonomi kawasan Asia Pasifik
 - Daya saing ekonomi kawasan ASEAN
 - Kerjasama ekonomi di kawasan Asia Pasifik
 - Kerjasama produsen di bidang ekspor minyak
32. Alat pertanian terbaik dan tercepat untuk pengolahan lahan pertanian terasering menggunakan ...
- Cangkul
 - Traktor
 - Bajak
 - Tugal
33. Manakah contoh alat pemuas kebutuhan di bawah ini yang dikategorikan sebagai benda komplementer ?
- Seragam sekolah dan sepatu
 - Pulpen dan rak buku
 - Pulpen dan kertas
 - Komputer dan printer
34. Pertunjukkan Tari Saman-Aceh, Kecak-Bali, Epos Ramayana-Jawa yang dikemas dengan kepariwisataan, menunjukkan bahwa ekonomi kreatif ...
- Berbasis budaya, mendorong hilangnya kearifan lokal
 - Menumbuhkembangkan komersialisasi budaya
 - Berbasis budaya mendorong perekonomian masyarakat
 - Mendorong pertumbuhan sanggar-sanggar seni
35. Latar belakang lahirnya Reformasi ditandai dengan krisis ekonomi dan politik pada akhir kekuasaan Orde Baru yang terjadi karena ...
- Pembangunan politik tidak berlandaskan GBHN, parpol dikendalikan pemerintah.
 - Lemahnya fundamental ekonomi, dan reaksi terhadap kekuasaan otoriter.
 - Munculnya kekuatan-kekuatan reformasi namun tidak melakukan kritik kekuasaan.
 - Merosotnya bantuan pembangunan dari negara-negara donatur dan lembaga kreditor.
36. Cara masyarakat Asia Tenggara mengembangkan potensi budaya menjadi modal pembangunan melalui ...
- Kerjasama ekonomi regional untuk ekport-import pertanian
 - Perjanjian ekstradisi untuk kasus pelanggaran hukum lintas negara
 - Pertukaran pelajar dan mahasiswa antar negara ASEAN
 - Promosi wisata kekayaan daerah di forum pertemuan ASEAN
37. Komisi Pemilihan Umum (KPU) Pusat dan Daerah banyak menerima pengaduan warga setelah pemilihan kepala daerah karena diduga terjadi praktik kecurangan. Jika dilihat dari konteks kelembagaan, hal ini menunjukkan bahwa lembaga ...
- Eksekutif belum menjalankan fungsinya dengan optimal
 - Edukatif tidak perlu menjadi media edukasi praktik berpolitik
 - Pendidikan sebaiknya mengambil alih pendidikan politik
 - Politik belum menjalankan fungsinya secara optimal

38. Perhatikan rangkaian gambar upacara adat perkawinan Nusantara di bawah ini.



Kesimpulan yang didapat dari gambar di atas bahwa kebudayaan ...

- A. menjadi ciri suatu suku bangsa
 B. bersifat unik dan universal
 C. hanya berwujud materi
 D. menunjukkan determinasi lingkungan
39. Perhatikan gambar berikut ini!



Perlengkapan pakaian di atas banyak dimanfaatkan penduduk di daerah.....

- A. Dataran rendah
 B. Lereng terjal
 C. Dataran tinggi
 D. Pantai dan muara sungai
40. Sejarah Indonesia pada masa Demokrasi Liberal (1950-1955) ditandai dengan silih bergantinya kabinet yang memerintah, mulai Kabinet Natsir, Kabinet Sukiman, Kabinet Wilopo, dan Kabinet Ali Sastroamidjojo. Kabinet-kabinet tersebut didukung oleh partai-partai pemerintah, namun rata-rata hanya bertahan satu tahun dan tidak dapat melaksanakan programnya karena mendapat tekanan dari partai-partai oposisi. Akibatnya terjadi ketidakstabilan politik, dan kehidupan ekonomi merosot. Berdasarkan wacana di atas, 3 konsep pokok Demokrasi Liberal di Indonesia dapat diidentifikasi sebagai berikut ...

- A. Kekuasaan eksekutif dominan, presiden sebagai kepala pemerintahan, partai pemerintah.
 B. Kekuasaan yudikatif dominan, ketua parlemen sebagai kepala pemerintahan, partai oposisi.
 C. Kekuasaan kabinet dominan, perdana menteri sebagai kepala negara, partai pemerintah.
 D. Kekuasaan legislatif dominan, perdana menteri sebagai kepala pemerintahan, partai oposisi.

41. Manfaat utama terbentuknya Masyarakat Ekonomi Asean (MEA) bagi Indonesia adalah meningkatnya ...

- A. Pertumbuhan modal
 B. Kerjasama ekonomi
 C. Pertumbuhan ekonomi
 D. Daya saing global

42. Berikut ini faktor-faktor yang mempengaruhi permintaan dan penawaran :

- (1) Harga barang
 (2) Tingkat pendapatan
 (3) Biaya produksi
 (4) Tingkat Teknologi
 (5) Cita rasa konsumen

Faktor-faktor yang mempengaruhi penawaran adalah ...

- A. (1), (2) dan (3)
 B. (1), (3) dan (4)
 C. (2), (3) dan (4)
 D. (3), (4) dan (5)

43. Perhatikan tabel di bawah ini!

No	Provinsi	APK SMA	Panjang Jalan Kabupaten (km)	Persentase jalan tidak stabil
1	Banten	76,82	3.124	27,75%
2	Gorontalo	81,31	3.576	38,46%
3	Sulawesi Selatan	84,99	9.614	48,37%
4	Sumatera Barat	90,07	16.628	50,40%

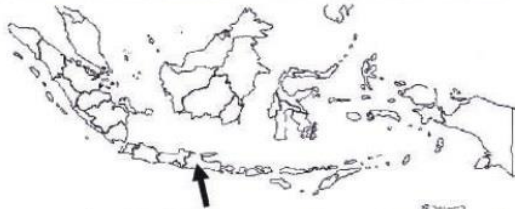
Berdasarkan data di atas dapat disimpulkan bahwa ...

- A. Semangat belajar terganggu oleh keadaan sarana jalan
- B. APK dapat dijadikan acuan pembangunan jalan di daerah
- C. Dibutuhkan bantuan dari masyarakat luas untuk membangun jalan
- D. Sarana transportasi mempengaruhi tingkat pendidikan

44. Pemukiman penduduk pedalaman di pulau Kalimantan cenderung mendekati...

- A. Jalan raya
- B. Aliran sungai
- C. Tepi hutan
- D. Puncak bukit

45. Perhatikan tanda panah pada peta berikut ini :



Nama dan jenis barang tambang batuan pada wilayah yang ditunjukkan oleh tanda panah di atas adalah

- A. Marmer
- B. Granit
- C. Bauksit
- D. Basal

46. Perhatikan foto flora berikut!



Flora dengan nama *Eucalyptus sp* ini berasal dari pulau...

- A. Sulawesi
- B. Kalimantan
- C. Sumatera
- D. Papua

47. Rute awal perjalanan orang Belanda ke Indonesia ditunjukkan pada pernyataan berikut ...

- A. Pantai Barat Afrika - Tanjung Pengharapan - Samudra Hindia - Pantai Barat Australia - Banten.
- B. Pantai Barat Afrika - Tanjung Pengharapan - Selat Ormuz - Teluk Aden - India - Malaka - Banten.
- C. Pantai Timur Afrika - Samudra Hindia - Pulau Madagaskar - Selat Ormuz - India - Malaka - Banten.
- D. Pantai Timur Afrika - Tanjung Pengharapan - Pulau Madagaskar - Selat Ormuz - India - Malaka - Banten.

48. Perhatikan tabel berikut!

Tarian	Makanan Khas	Asal Daerah
1. Tari Tor-tor	A. Nasi Kapau	A. Sumatera Barat
2. Tari Jaipong	B. Sate Lilit	B. Jawa Barat
3. Tari Sajojo	C. Arsik Ikan	C. Bali
4. Tari Piring	D. Papeda	D. Sumatera Utara
5. Tari Kecak	E. Pepes Ikan Mas	E. Papua

Pasangan yang tepat antara asal daerah dan produk budaya suku di Indonesia adalah ...

- A. 1 - D - C
- B. 2 - B - D
- C. 4 - C - D
- D. 5 - B - C

49. Pernyataan dibawah ini yang paling tepat menunjukan hubungan antara interaksi dengan komunikasi budaya modern adalah ...

- A. Budaya dan komunikasi dua hal yang tidak saling mempengaruhi
- B. Komunikasi modern menjauhkan manusia dari lingkungan sosialnya
- C. Budaya dan realitas sosial dapat saling mempengaruhi
- D. Komunikasi dan budaya adalah realitas sosial abstrak

50. Manakah konsep-konsep berikut ini yang menunjukkan nilai kepahlawanan bangsa Indonesia dalam mempertahankan kemerdekaan ?

- A. Persatuan, kemerdekaan, cinta tanah air, sosial-budaya, kemanusiaan
- B. Patriotisme, rela berkorban, kerjasama, persatuan, nasionalisme
- C. Rela berkorban, nasionalisme, kemanusiaan, bangga sebagai bangsa
- D. Kemerdekaan, nasionalisme, kemanusiaan, kerjasama, persatuan

51. Letak geologis Indonesia berada diantara tiga lempeng tektonik. Kondisi ini mendukung banyaknya sumberdaya batuan vulkanik pada bidang pertanian karena abu vulkanis dapat ...

- A. Menyuburkan tanah
- B. Memperkuat erosi
- C. Mencegah bencana banjir
- D. Digunakan untuk penghijauan

52. Manakah kronologi perkembangan organisasi Pergerakan Nasional Indonesia yang benar ?

- A. Budi Utomo – Partai Nasional Indonesia – Sarekat Islam – Indische Partij
- B. Budi Utomo – Sarekat Islam – Partai Nasionalis Indonesia – Perhimpunan Indonesia
- C. Budi Utomo – Sarekat Islam – Indische partij – Partai Nasional Indonesia
- D. Budi Utomo – Perhimpunan Indonesia – Partai Nasional Indonesia – Indische Partij

53. Perbedaan pertumbuhan ekonomi dan pembangunan ekonomi adalah ...

- A. Pertumbuhan ekonomi diukur dari kenaikan GNP, sedangkan pembangunan ekonomi diukur dari kenaikan jumlah sarana dan prasarana pembangunan.
- B. Pertumbuhan ekonomi diukur dari jumlah kenaikan sarana dan prasarana, sedangkan pembangunan ekonomi diukur dari kenaikan GDP.
- C. Pembangunan ekonomi mencakup aspek yang lebih luas dari pertumbuhan ekonomi yang ukurannya tidak hanya kenaikan GNP.
- D. Pertumbuhan ekonomi mencakup aspek yang lebih luas dari pembangunan

ekonomi, sebab tanpa pertumbuhan ekonomi tidak akan terjadi pembangunan ekonomi.

54. Peranan utama Badan Usaha Milik Negara (BUMN) dilihat dari pengelolaan Sumber Daya Alam adalah...

- A. Mengelola sektor yang menguasai hajat hidup orang banyak.
- B. Memperoleh pendapatan sebagai sumber penerimaan negara
- C. Memperluas kesempatan kerja bagi masyarakat luas
- D. Mengelola sektor usaha yang memberikan keuntungan

55. Tabel di bawah ini memuat faktor-faktor yang mempengaruhi permintaan dan penawaran barang dan jasa

A	B	C
1.Pendapatan	1.Pajak	1.Modal
2.Teknologi	2.Harga	2.Produksi
3.Biaya	3.Profit	3.Selera

Berdasarkan tabel di atas, faktor-faktor yang mempengaruhi permintaan adalah...

- A. A1, B2, dan C3
- B. A1, B1, dan C2
- C. A3, B3, dan C1
- D. A2, B2, dan C3

56. Perbedaan distribusi langsung dan tidak langsung dapat diidentifikasi dari ...

- A. Barang dan jasa yang diperjualbelikan
- B. Luasnya daerah pemasaran barang dan jasa
- C. Jumlah barang dan jasa yang diperjualbelikan
- D. Jumlah perantara yang digunakan

57. Untuk meningkatkan kualitas SDM di era masyarakat informasi pada saat ini, peranan lembaga pelatihan komputer adalah ...

- A. Mengembangkan kurikulum yang memuat teknologi informasi secara terpadu
- B. Menyusun program kerjasama dengan lembaga industri-industri
- C. Menjaring peserta kursus lewat iklan di media massa dan internet
- D. Melakukan aktivitas pembelajaran berbasis kerja

58. Wilayah Kalimantan Barat memiliki pola curah hujan....
- A. Monsoon
 - B. Equatorial
 - C. Lokal
 - D. Campuran
59. Dampak negatif globalisasi pada struktur sosial ekonomi masyarakat Jepang adalah
- A. Jepang semakin mengalami kesulitan dalam memasarkan produk dan teknologinya ke seluruh dunia.
 - B. Sulitnya mendapatkan tenaga kerja kasar terlatih dari negara Asia Tenggara.
 - C. Intervensi produk China berpengaruh terhadap ekspor produk Jepang.
 - D. Menigkatnya budaya konsumerisme generasi muda Jepang.
60. Berikut ini kegiatan yang dilakukan oleh Rumah Tangga Produsen (RTP) dan Rumah Tangga Konsumen (RTK) sebagai berikut :
- (1) Menjual barang dan jasa hasil produksi
 - (2) Menyediakan faktor-faktor produksi
 - (3) Membayar balas jasa atas penyerahan faktor produksi
 - (4) Menerima balas jasa atas atas pemakaian faktor produksi

Aktivitas yang dilakukan Rumah Tangga Konsumen (RTK) dalam kehidupan ekonomi adalah ...

- A. (1) dan (3)
- B. (1) dan (4)
- C. (2) dan (3)
- D. (2) dan (4)